

Nombres et quantités : de 0 à 100



1 Complète avec le bon nombre :


95

75

90

96

2 Complète la bande numérique:




Nombres et quantités : de 0 à 100

1 Complète les cases grises du tableau des nombres

	51			54			57		
60		62				66			69
		72				76			
80			83		85			88	
	91						97		99

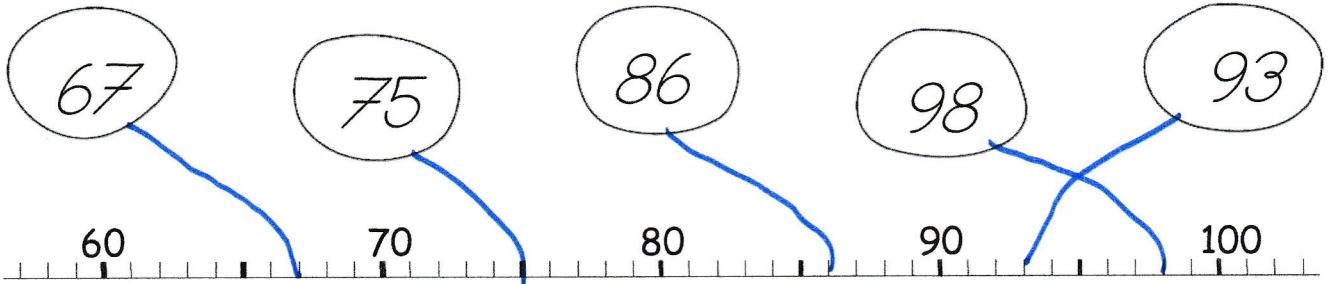
2 Colorie les pièces et billets correspondants à la somme dans la tirelire :






Nombres et quantités : de 0 à 100

1 Relie les nombres à leur place sur la droite graduée



2 Complète



Nombres et quantités : de 0 à 100

1 Aide-toi des étiquettes pour écrire les nombres

99	quatre-vingt-dix-neuf
97	quatre-vingt-dix-sept
87	quatre-vingt-sept

- sept
- quatre
- dix
- neuf
- vingt

2 Ecris les nombres dans l'ordre croissant, du plus petit au plus grand:

91 - 93 - 57 - 73 - 37 - 77

- 37
- 57
- 73
- 77
- 91
- 93

Calcul

L'addition posée

Observe comment Loane calcule $32 + 6 + 21$.
 Termine ses calculs et complète sa bulle.

$32 + 6 + 21 = 59$

w
w
w.l
uti
nb
az
ar

	d	u	
	3	2	→
+		6	→
+	2	1	→
	<u>5</u>	<u>9</u>	

① Effectue ces additions.

	3	4
+	5	2
<hr/>		
	8	6

	2	5
+	4	4
<hr/>		
	6	9

	6	1
+		5
<hr/>		
+	1	3
<hr/>		
	7	9

	4	0
+	2	3
<hr/>		
+		4
<hr/>		
	6	7