

Mon petit chat gris est très gourmand. Il saute d'un bond de la table pour boire sa tasse de lait. Ensuite, il va sur mon lit.

Niv1: en moins de 3min30

Niv2: en moins de 3min

$30 = 5 \times \dots$	$14 = 2 \times \dots$	$7 \times 2 = \dots$	$2 \times 3 = \dots$
$2 \times 6 = \dots$	$10 \times 3 = \dots$	$2 \times 9 = \dots$	$2 \times 10 = \dots$
$10 \times 9 = \dots$	$5 = 5 \times \dots$	$40 = 5 \times \dots$	$8 \times 4 = \dots$
$24 = 4 \times \dots$	$5 \times 4 = \dots$	$4 \times 3 = \dots$	$10 \times 2 = \dots$
$4 \times 2 = \dots$	$4 = 2 \times \dots$	$4 \times 5 = \dots$	$12 = 2 \times \dots$
$5 \times 4 = \dots$	$5 \times 8 = \dots$	$1 \times 10 = \dots$	$5 \times 5 = \dots$
$10 = 10 \times \dots$	$7 \times 10 = \dots$	$3 \times 10 = \dots$	$2 \times 7 = \dots$
$45 = 5 \times \dots$	$15 = 5 \times \dots$	$2 = 2 \times \dots$	$16 = 2 \times \dots$
$7 \times 4 = \dots$	$5 \times 2 = \dots$	$2 \times 1 = \dots$	$2 \times 5 = \dots$
$9 \times 5 = \dots$	$7 \times 5 = \dots$	$4 \times 10 = \dots$	$9 \times 4 = \dots$


ROUTINES FRANÇAIS – L'adjectif

Colorie en vert les adjectifs dans chaque phrase:




- Les fraises rouges poussent dans mon jardin ensoleillé.
- Les élèves bavards n'écotent pas la nouvelle maitresse.
- Tous les jours pluvieux, je sors mon parapluie multicolore.
- Un grand homme moustachu s'est approché de moi.

Colorie en vert les adjectifs dans chaque phrase:



- Les petites filles de la voisine viennent prendre un délicieux gouter chez moi.
- Les affaires scolaires de mon frère sont dans son cartable rayé.
- Aujourd'hui, des charmants oisillons chantent au bord de ma fenêtre ouverte.
- Mon ancien stylo vert a été retrouvé au fond de ma trousse rectangulaire.

Complète les GN avec un adjectif.



un chien

ce crayon


la montre

les trouses

les filles

ma maison

Complète les GN avec un adjectif.



la poule

le soleil

une équipe

les souris

des fusées

ma ferme


ROUTINES FRANÇAIS – LE SUJET

Entoure le verbe conjugué en rouge et souligne en bleu le sujet.




- Cet été, vous avez fait de la planche à voile.
- Maxime montre sa montre à son camarade.
- La nuit, les hiboux et les chouettes sortent.
- Ces rapaces nocturnes sont pourtant très utiles.

Entoure le verbe conjugué en rouge et souligne en bleu le sujet.



- De colère, Johann a claqué la porte.
- Dans un tribunal, le juge dirige les débats.
- Le prévenu est la personne soupçonnée de ne pas avoir respecté la loi.
- En pénétrant sur le tapis, Lola, Sabrina et leurs deux partenaires firent une révérence.

Écris un sujet différent pour chaque phrase. Pas de pronom personnel !



- marche dans la rue.
- achètent des livres dans la librairie.
- mange des croquettes au poulet.
- font de la danse classique.

Souligne en bleu le sujet, puis remplace-le par un pronom personnel.



- Le chat court après la souris. →
- Les fleurs dégagent une odeur agréable. →
- Ma sœur et moi sommes au lycée. →
- Les animaux appartiennent à une chaîne alimentaire. →

$$490 \times 78 =$$

$$85 \div 9 =$$

$$47 \div 6 =$$

$$39 \div 8 =$$

Prénom : _____

Date : _____

Nombres et quantités : de 0 à 99 999



1 Colorie la barre qui représente le plus petit nombre:

20 000 + 4 000 + 500 + 30 + 2

65 000 + 600 + 80 + 12

500 + 4 000 + 30 + 2 + 30 000

60 000 + 5 000 + 91 + 600


23 000 + 500 + 60 + 3

41 000 + 200 + 60 + 17

20 000 + 3 000 + 500 + 60 + 2

40 000 + 1 000 + 200 + 75

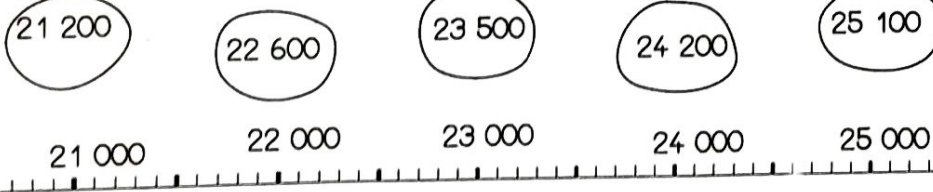
2 Entoure les pièces et billets qu'il faut choisir pour avoir 4 301€ :




Pour avoir 4 301€, il faut :

- billets de 500€
- billets de 100€
- billets de 10€
- pièces de 1€

3 Relie les nombres à leur place sur la droite graduée :



4 Complète :



Stéphanie@ecoledecrevette

Prénom : _____

Date : _____

Nombres et quantités : de 0 à 99 999



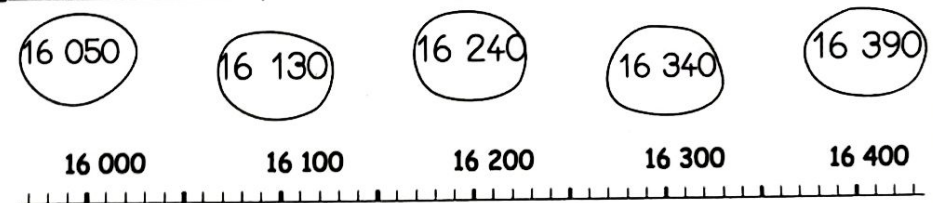
1 Complète les compteurs :

45 203		34 215	
45 204		34 216	
	58 521		75 634
	58 522		75 635


2 Ecris les nombres en lettres :

25 102	
45 003	
8 456	
678	

3 Relie les nombres à leur place sur la droite graduée :



4 Complète :



Stéphanie@ecoledecrevette

Mes p'tits problèmes hebdomadaires

1 Dans une boîte de 100 bonbons il y a 69 bonbons à la menthe. Les autres sont au citron. Combien de bonbons au citron y a-t-il dans cette boîte ?



2 Un chauffeur routier parcourt 287km le matin et 356 km l'après-midi. Quelle distance a-t-il parcourue dans la journée ?



3 Un train transporte des voitures. Il y a 9 wagons. On a mis 25 voitures par wagon. Combien de voitures transporte ce train ?



4 Dans la caisse du cinéma, il y a 3 billets de 100€, 5 billets de 50€, 9 billets de 5€ et 100 pièces de 2€. Combien y a-t-il d'argent ?



3 étoiles : Une si l'opération ou le dessin sont adaptés, une si le résultat est juste, une si la phrase réponse est bien formulée
+ 1 cœur –bonus si l'orthographe est correcte.