



1 Vrai ou faux. Colorie la bonne réponse.

- Un quadrilatère a toujours 4 côtés V F
- Un losange est un parallélogramme..... V F
- Tous les quadrilatères ont 4 angles droits V F
- Les diagonales d'un parallélogramme se coupent en leur milieu... V F
- Un quadrilatère a plus de côtés que de sommets V F
- Les côtés d'un quadrilatère sont toujours parallèles V F

2 Qui suis-je ?

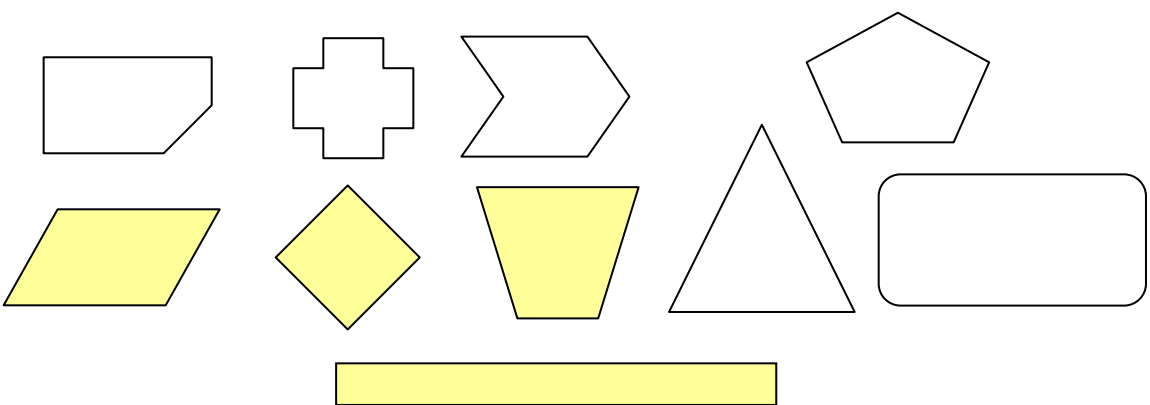
- A : • J'ai 4 côtés parallèles et égaux 2 à 2.
• Je n'ai pas d'angle droit.
• Mes diagonales sont perpendiculaires

Je suis un **losange**

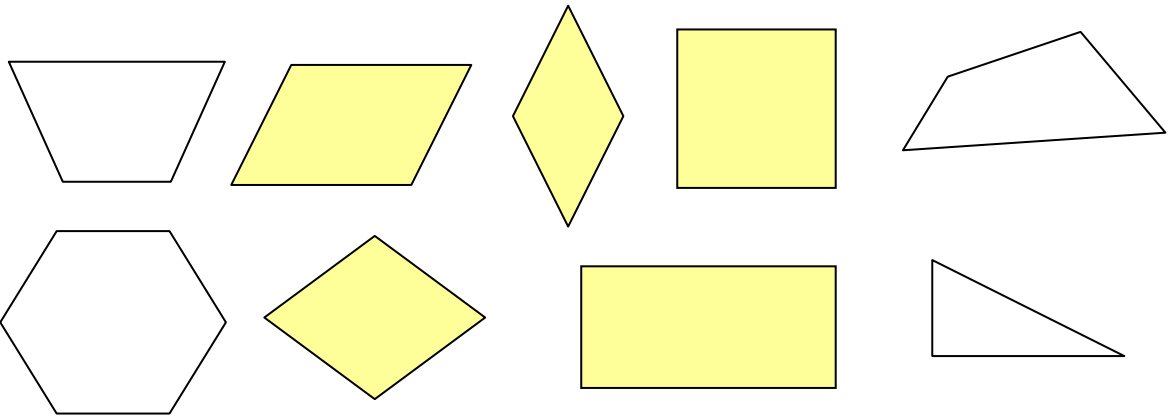
- B : • J'ai 4 côtés parallèles tous égaux.
• J'ai 4 angles droits.

Je suis un **carré**

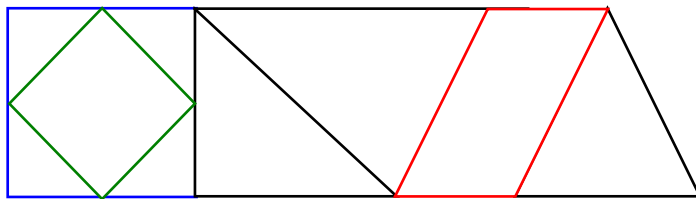
3 Colorie les quadrilatères.



4 Colorie les parallélogrammes.



5 Repasse chaque parallélogramme d'une couleur différente.



6 Construction

- 1- Trace un carré ABCD de 3cm de côté
- 2- Trace un losange EFGH dont les diagonales mesurent 3cm et 5cm.
- 3- Trace le rectangle MNOP ayant des diagonales de 6 cm

