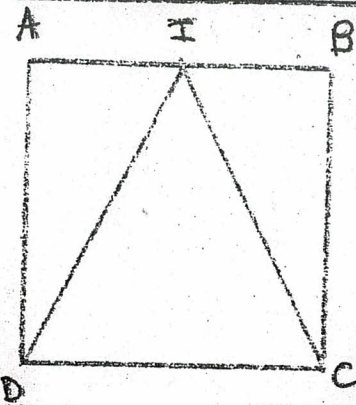


# Géométrie

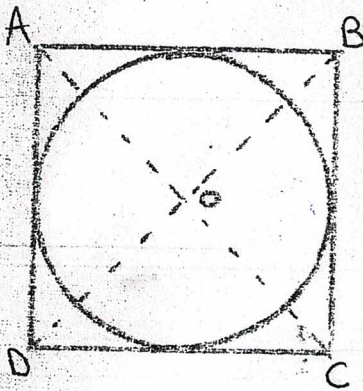
figure

reproduction

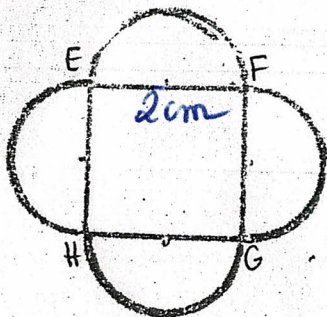
programme



- Je trace un carré ABCD de 4 cm de côté.
- Je cherche le milieu I de [AB].
- Je joins le point I au point D et au point C pour former un triangle.



- Je trace un carré ABCD de 4 cm de côté.
- Je trace les diagonales [AC] et [BD] du carré pour trouver le centre O du cercle.
- Avec le compas je trace le cercle inscrit au carré.
- J'efface les diagonales du carré.



- Je trace un carré de 2 cm de côté.
- Je cherche le milieu de chaque côté pour trouver le milieu de chaque demi-cercle.
- À l'aide du compas, je trace un demi-cercle au-dessous de chaque côté.