



7

Additionner et soustraire avec des calculs posés

1 Effectue ces opérations en colonnes.

$$\begin{array}{r} 566 \\ + 123 \\ \hline \dots\dots\dots \end{array}$$

$$\begin{array}{r} 447 \\ + 541 \\ \hline \dots\dots\dots \end{array}$$

$$\begin{array}{r} 846 \\ + 144 \\ \hline \dots\dots\dots \end{array}$$

$$\begin{array}{r} 763 \\ + 286 \\ \hline \dots\dots\dots \end{array}$$

2 Effectue ces opérations en colonnes.

$$\begin{array}{r} 122 \\ + 264 \\ + 263 \\ \hline \dots\dots\dots \end{array}$$


$$\begin{array}{r} 212 \\ + 104 \\ + 602 \\ \hline \dots\dots\dots \end{array}$$

$$\begin{array}{r} 185 \\ + 14 \\ + 280 \\ \hline \dots\dots\dots \end{array}$$


$$\begin{array}{r} 232 \\ + 322 \\ + 893 \\ \hline \dots\dots\dots \end{array}$$

3 Pose et effectue ces opérations. Reporte le résultat.


$284 + 512 = \dots\dots\dots$




$128 + 81 = \dots\dots\dots$



$786 + 116 = \dots\dots\dots$



$237 + 187 = \dots\dots\dots$



4 Effectue ces opérations à trous.

$$\begin{array}{r} 232 \\ + \dots\dots \\ \hline 344 \end{array}$$

$$\begin{array}{r} 756 \\ + \dots\dots \\ \hline 999 \end{array}$$

$$\begin{array}{r} 584 \\ + \dots\dots \\ \hline 762 \end{array}$$

$$\begin{array}{r} 2008 \\ - \dots\dots \\ \hline 1204 \end{array}$$

Évaluation

Un pétale par exercice juste. Colorie ton résultat.

