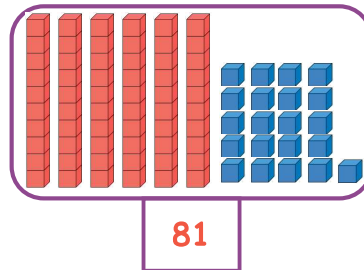
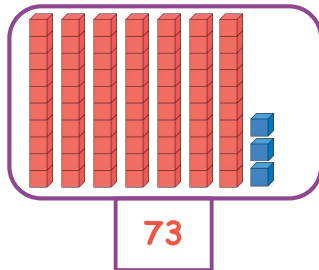


Mathématiques : jeudi 18 juin

1. Activité ritualisée

Observe attentivement ces deux nombres.

Quel est le plus grand des 2 nombres ?



$$81 > 73$$

2. Calcul mental

- Le compte est bon

But du jeu : Utilisez les nombres donnés et les deux opérations que l'on connaît, **l'addition + et la soustraction -** pour trouver le nombre demandé.

56

$$40 - 10 - 2 - 4 - 1 = 60$$

$$40 + 10 = 50$$

$$50 + 2 + 4 = 56$$

$$60 - 4 = 56$$

35

$$40 - 3 - 2 - 20 = 10$$

$$3 + 2 = 5$$

$$40 - 5 = 35$$

$$20 + 10 = 30$$

$$30 + 2 + 3 = 35$$

24

$$6 - 6 - 30 - 10 - 2 = -5$$

$$30 - 6 = 24$$

$$6 + 6 = 12$$

$$10 + 2 = 12$$

$$12 + 12 = 24$$

72

$$50 - 10 - 3 - 5 - 5 = -1$$

$$50 + 10 = 60$$

$$5 + 5 = 10$$

$$60 + 10 = 70$$

$$3 - 1 = 2$$

$$70 + 2 = 72$$

Bonus

3. Résolution de problème

Dans le car de Max, il y avait 10 enfants. A l'arrêt suivant 4 enfants montent dans le car.

Combien d'enfants y a-t-il dans le car ?



10 enfants sont dans le car.

4 enfants montent.

$10 + 4 = 14$
Il y a **14** enfants.

4. Apprentissage : numération

- Exercice 1 - Compare les nombres avec < ou > :

$8 < 84$	$78 > 24$	$71 > 70$
$78 < 91$	$88 > 79$	$58 < 94$

- Exercice 2 - Calcule :

$87 - 10 = 77$	$73 - 10 = 63$
$95 - 10 = 85$	$89 - 10 = 79$

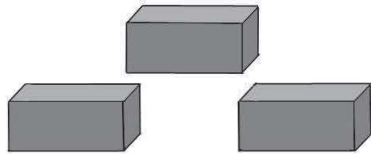
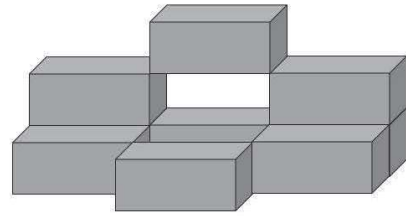
- Exercice 3 - Complète :

50	51	52	53	54	55	56	57	58	59
60	61	62	63	64	65	66	67	68	69
70	71	72	73	74	75	76	77	78	79
80	81	82	83	84	85	86	87	88	89
90	91	92	93	94	95	96	97	98	99

Mathématiques : vendredi 19 juin

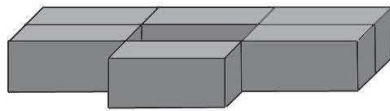
1. Activité ritualisée : comptage de cubes

Combien y-a-t-il de cubes ?



3ème étage : 1 cube

2ème étage : 2 cubes




1er étage : 6 cubes

$$1 + 2 + 6 = 9$$

Il y a **9** cubes.

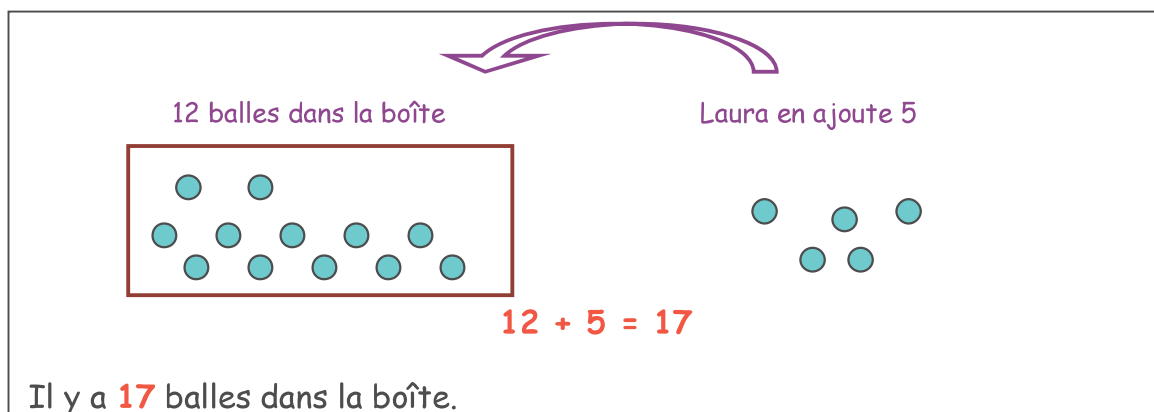
2. Calcul mental

CHRONOMATH 9				
1	$2 + 1 = 3$	11	$4 + 3 = 7$	
2	$3 + 1 = 4$	12	$3 + 7 = 10$	
3	$5 + 1 = 6$	13	$7 - 1 = 6$	
4	$4 + 2 = 6$	14	$12 - 1 = 11$	
5	$6 + 2 = 8$	15	$9 - 2 = 7$	
6	$9 + 2 = 11$	16	$14 - 2 = 12$	
7	$10 + 2 = 12$	17	$25 - 2 = 23$	
8	$3 + 3 = 6$	18	$30 + 20 = 50$	
9	$5 + 3 = 8$	19	$20 + 20 + 20 = 60$	
10	$8 + 3 = 11$	20	$20 + 20 + 20 + 14 = 74$	
Score : ...				

3. Résolution de problème

Enzo a mis 12 balles dans la boîte. Laura ajoute 5 balles.

Combien de balles y a-t-il dans la boîte ?



12 balles dans la boîte

Laura en ajoute 5

$$12 + 5 = 17$$







Il y a **17** balles dans la boîte.







4. Apprentissage :

Se repérer sur un quadrillage

À ton tour !

Colorie de la bonne couleur les cases du quadrillage.



 violet	C 4	 vert	A2
 bleu	B 4	 jaune	D1
 orange	A 3	 rouge	E2

	A	B	C	D	E
1					
2					
3					
4					

Se déplacer sur un quadrillage

À ton tour !

Trace le chemin emprunté par la souris pour manger le gruyère

	A	B	C	D	E
1					
2					
3					
4					

							
---	---	---	---	---	---	---	---