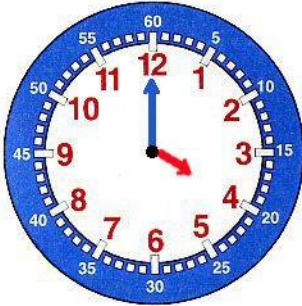


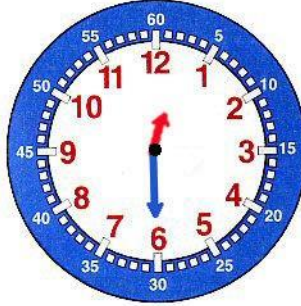
Mathématiques : mardi 2 juin

1. Activité ritualisée

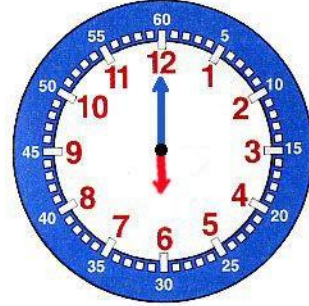
- Quelle heure est-il ?



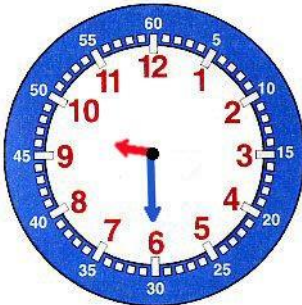
Il est **4h00**



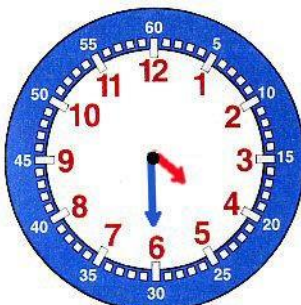
Il est **12h30**



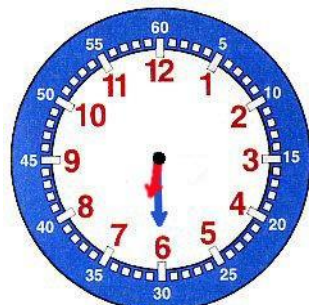
Il est **6h00**



Il est **9h30**

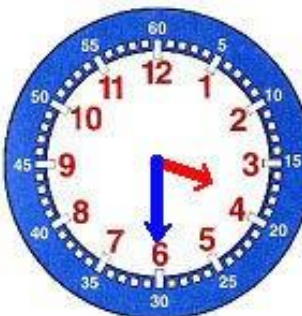


Il est **4h30**

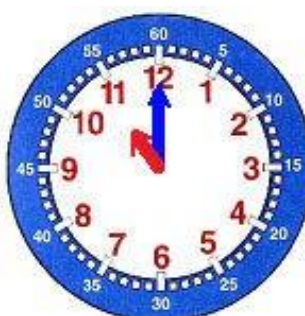


Il est **6h30**

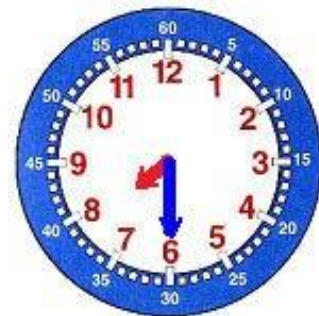
- Complète les horloges ?



Il est **3h30**



Il est **11h00**



Il est **7h30**

2. Calcul mental : calcul rapide

$4 - 1 = 3$

$8 - 6 = 2$

$9 - 4 = 5$

$6 - 2 = 4$

$8 - 3 = 5$

$10 - 2 = 8$

$9 - 5 = 4$

$7 - 4 = 3$

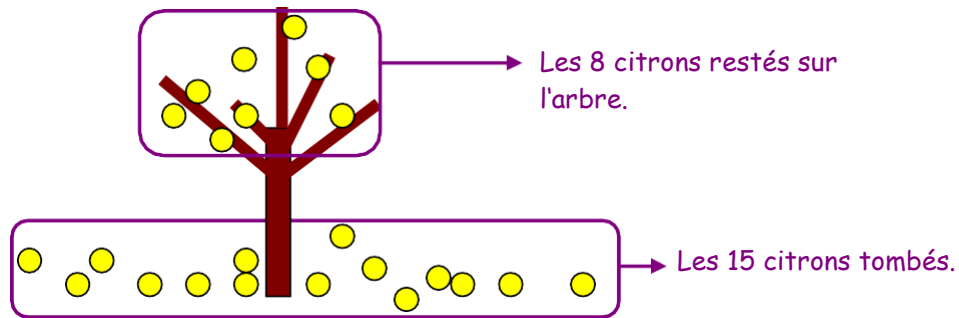
$4 - 3 = 1$

Tu peux t'aider du
tableau des nombres.

3. Résolution de problème

15 citrons sont tombés du citronnier. Il reste 8 citrons sur l'arbre.
Combien de citrons y avait-il sur l'arbre au départ ? »

dessin ou schéma / calcul

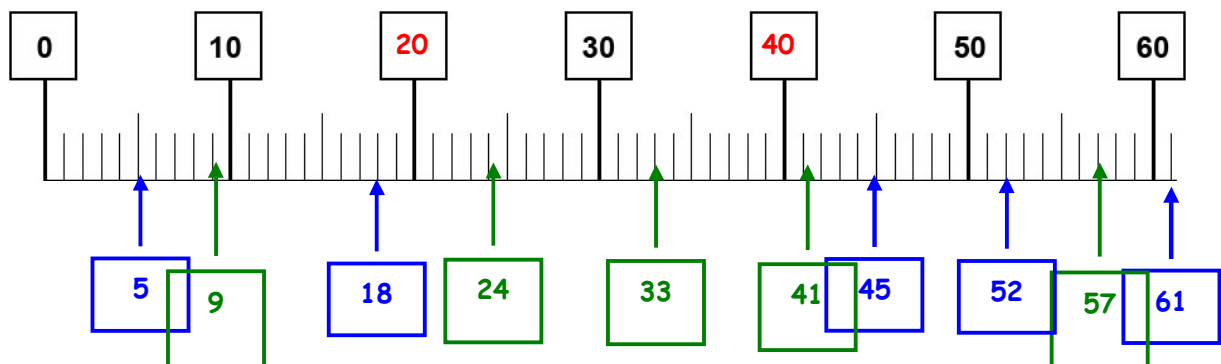


$$8 + 15 = 23$$

Il y avait 23 citrons.

Apprentissage :

- Complète la droite graduée



- Place les nombres suivants :

En bleu : 45, 5, 18, 61 et 52

En vert : 33, 24, 9, 41 et 57

- Range les nombres dans l'ordre croissant :

Nombres bleus : 5, 18, 45, 52, 61

Nombres verts : 9, 24, 33, 41, 57

Mathématiques : jeudi 4 juin

1. Activité ritualisée

Voici quatre mots nombres

| | | | |
|------|-----|--------|--------|
| sept | dix | trente | quatre |
|------|-----|--------|--------|

Avec ces mots nombres je peux écrire des nombres.

Exemple : avec huit dix je peux écrire le nombre dix-huit → 18

À ton tour !

Écris les trois mots nombres possibles

| Nombres en lettres | Nombre en chiffre |
|----------------------|-------------------|
| trente-quatre | 34 |
| dix-sept | 17 |
| trente-sept | 37 |

Tu peux t'aider des étiquettes que tu trouveras à la fin du document.

2. Calcul mental : calcul rapide

$10 + 30 = 40$

$30 + 10 = 40$

$40 + 30 = 70$

$50 + 40 = 90$


$60 + 20 = 80$

$20 + 70 = 90$

3. Résolution de problème

Lali a gonflé 3 ballons rouges et 5 ballons verts. Mais 1 ballon a éclaté. Combien de ballons reste-t-il ?

dessin ou schéma



calcul

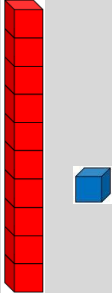
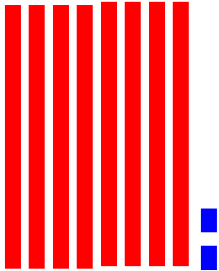

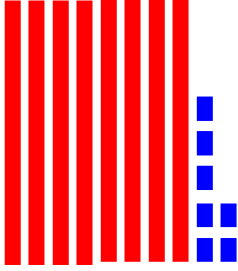
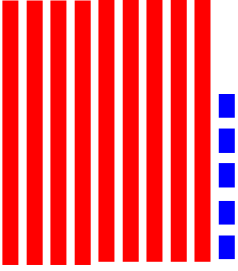
$3 + 5 = 8 \quad 8 - 1 = 7$

phrase réponse

Il reste **7** ballons.

À ton tour !

Complète le tableau ci-dessous

| J'entends | « quatre-vingt-deux » | « quatre-vingt-onze » | « quatre-vingt-sept » | « quatre-vingt-quinze » |
|--|---|---|--|---|
| <p data-bbox="188 421 357 497">Je représente</p>  |  |  |  |  |