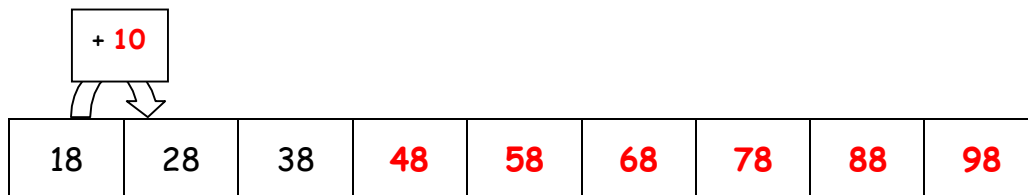


Mathématiques : jeudi 28 mai

1. Activité ritualisée

Observe la suite de nombres et complète-la

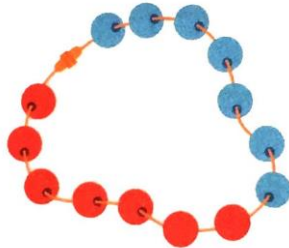


2. Calcul mental

- Calcule les doubles, comme dans l'exemple.



$4 + 4 = 8$
Le **double** de 4 est 8



$7 + 7 = 14$
Le **double** de 7 est 14



$5 + 5 = 10$
Le **double** de 5 est 10

- Complète comme dans l'exemple.

$6 + 6 = 12$
12 est le **double** de 6

$9 + 9 = 18$
18 est le **double** de **9**

$8 + 8 = 16$
16 est le **double** de **8**

- Calcul malin

$$\begin{aligned} 8 + 7 &= 8 + 2 + 5 \\ &= 10 + 5 \\ &= 15 \end{aligned}$$

Rappel : $7 + 6$

$$\begin{aligned} 7 + 6 &= 7 + 3 + 3 \\ &= 10 + 3 \\ &= 13 \end{aligned}$$

$$\begin{aligned} 7 + 4 &= 7 + 3 + 1 \\ &= 10 + 1 \\ &= 11 \end{aligned}$$

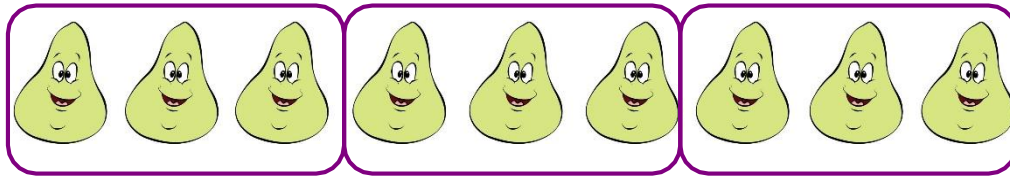
$$\begin{aligned} 9 + 5 &= 9 + 1 + 4 \\ &= 10 + 4 \\ &= 14 \end{aligned}$$

3. Résolution de problèmes

- Papy est allé dans son jardin. Il a cueilli 9 poires qu'il distribue à ses petits-enfants. Chaque petit enfant reçoit 3 poires.

Combien a-t-il de petits-enfants ?

dessin ou schéma



3 poires pour 1 enfant

3 poires pour 1 enfant

3 poires pour 1 enfant

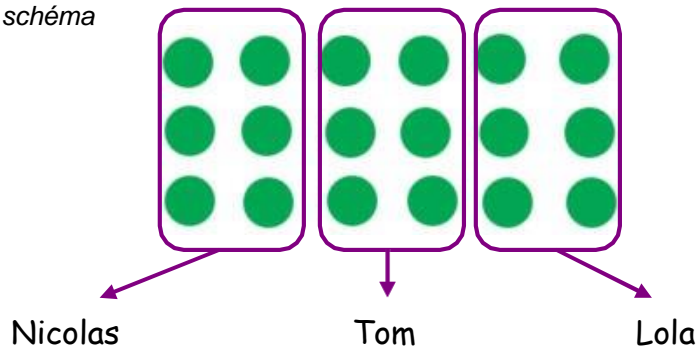
phrase réponse

Il a **3** petits-enfants.

- Nicolas, Tom et Lola se partagent 18 billes. Chacun a le même nombre.

Combien de billes chaque enfant a-t-il ?

dessin ou schéma



Nicolas

Tom

Lola

phrase réponse

Chaque enfant a **6** billes.

Mathématiques : vendredi 29 mai

1. Activité ritualisée

- Compte à rebours (à l'envers) à partir de 79.

Écris-les en les nommant à haute voix.

79, 78, 77, 76, 75, 74, 73, 72, 71, 70, 69, 68, 67, 66, 65, 64, 63, 62, 61, 60

- Complète les tableaux

Nombre	Nombre de dizaines
Soixante-deux	6
Cinquante-quatre	5
Soixante-douze	7
Soixante	6

Nombre	Nombre de dizaines
Soixante-dix-sept	7
Soixante-quinze	7
Soixante-cinq	6
Soixante-et-onze	7

2. Calcul mental : calcul rapide

$8 - 2 = 6$

$7 - 2 = 5$

$9 - 3 = 6$

$5 - 1 = 4$

$6 - 3 = 3$

$8 - 1 = 7$

$10 - 3 = 7$

$4 - 1 = 3$

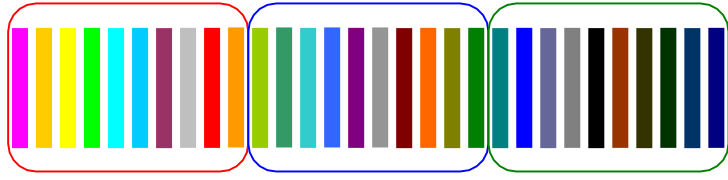
$5 - 3 = 2$

Tu peux t'aider du tableau des nombres.

3. Résolution de problème

Lucie range les feutres dans les pochettes. Dans une pochette, elle peut mettre 10 feutres.

Combien lui faut-il de pochettes pour ranger 30 feutres ? »



Il lui faut 3 pochettes.

4. Apprentissage

