

Mathématiques : mardi 24 mars

1. Activité ritualisée

- Ecris en lettres

27 : vingt-sept

38 : trente-huit

- Comme hier, complète la fleur numérique en écrivant les différentes représentations d'un nombre : 41

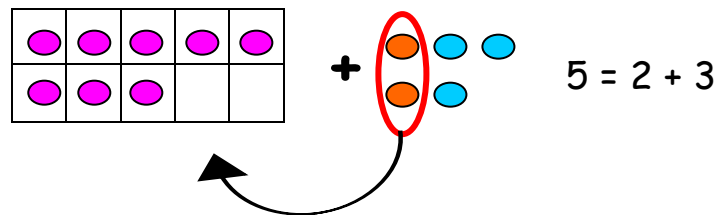
2. Calcul mental : comment ajouter facilement un nombre à 8 ?

À ton tour

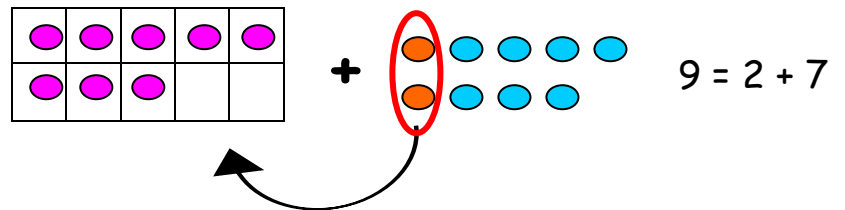
Essaie de calculer facilement :

Tu peux faire comme moi et t'aider d'un dessin

$$\begin{aligned} 8 + 5 &= 8 + 2 + 3 \\ &= 10 + 3 \\ &= 15 \end{aligned}$$

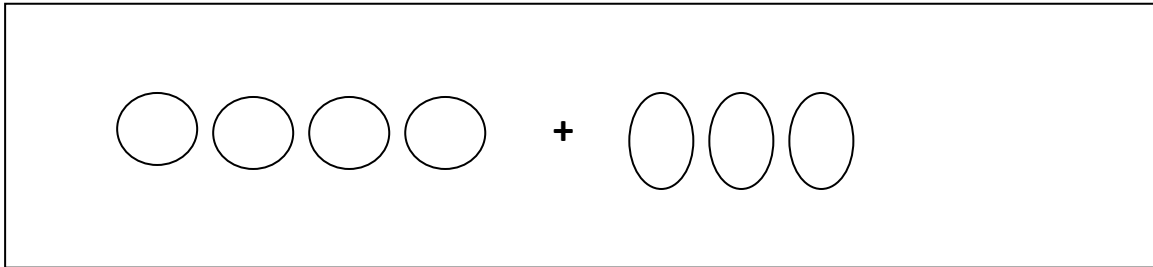


$$\begin{aligned} 8 + 9 &= 8 + 2 + 7 \\ &= 10 + 7 \\ &= 17 \end{aligned}$$



3. Apprentissage : les problèmes de type composition d'état

1. Pour jouer dans la cour, Léa a sorti 4 ballons de football et Mathis 3 ballons de rugby. Combien y a-t-il de ballons dans la cour?



calcul

$$4 + 3 = 7$$

phrase réponse

Il y a 7 ballons.

2. Julie a pris 3 cahiers dans l'armoire de la classe. Les autres ont été pris par Inès. En tout, 9 cahiers ont été pris. Combien de cahiers Inès a-t-elle pris ?

dessin ou schéma



$$3 + 6 = 9$$

phrase réponse

Elle a pris 6 cahiers.