

RALLYE MATHÉMATIQUES

Tu peux te faire aider de tes parents ou de tes frères et sœurs.
Si l'exercice est réussi : 5 points / Si tu as eu de l'aide : 3 points
Si l'exercice est échoué : 0 point. Calcule ton score à la fin.

1. Exercice 1

- Antoine a ouvert son livre. En ajoutant les numéros de la page de gauche et ceux de la page de droite, il obtient le nombre 9.



Quels sont les numéros des deux pages ?


Avant de commencer à chercher, regarde comment sont numérotées les pages d'un livre.
Que remarques-tu ?

Réponse 1 : les numéros de pages sont : et

2. Exercice 2

- Marie prépare 4 bouquets de fleurs en utilisant toutes les tulipes et toutes les roses. Chaque bouquet doit être identique.

Trouve le nombre de tulipes et de roses dans chaque bouquet.



Pour t'aider tu peux découper les fleurs que tu trouveras à la fin du document et les placer dans chaque bouquet.


Bouquet 1	Bouquet 2	Bouquet 3	Bouquet 4


Réponse 2 : il y a tulipes et roses dans chaque bouquet.

3. Exercice 3

- Regarde cette construction de cubes :

Les cubes sont tous posés sur une table, il n'y a pas de trous cachés.

Combien faut-il de cubes  pour refaire la même construction ?



Pour t'aider tu peux prendre des légos (ou des cubes) et reproduire la construction.

Réponse 3 : il faut cubes pour refaire la construction.

4. Exercice 4

- Dessine au moins 6 façons de faire 48 € avec le portemonnaie suivant :



Pour t'aider tu peux découper la monnaie tu trouveras à la fin du document.

1	2	3
4	5	6

