



# JE ME TESTE 2

Prénom .....  
Date .....


## CONNAITRE LES UNITÉS DE DURÉES ET LEURS ÉQUIVALENCES

1 Mets une croix pour indiquer quelle unité utiliser pour mesurer les durées indiquées.


	Mois	Jour	Heure	Minute	Seconde
Une nuit					
Construire une maison					
Une publicité					
Le trajet vers l'école					

## LIRE L'HEURE

2 Colorie d'une même couleur les horloges qui indiquent la même heure du matin et de l'après-midi.



3 Place les aiguilles sur les horloges.



## CONVERTIR LES UNITÉS DE DURÉES

4 Colorie les durées égales.

2 min 35 sec    5 min    1 h 45 min  
 3 min 10 sec    190 sec    4 h 50 min  
 155 sec    300 sec    105 min  
 290 min    2 h 30 min    300 min  
 150 min    5 h

## CALCULER AVEC DES DURÉES

5 Calcule ces durées.


$3 \text{ min } 15 \text{ s} + 50 \text{ s} = \dots \text{ min } \dots \text{ s}$

$2 \text{ h } 30 \text{ min} + 1 \text{ h } 40 \text{ min} = \dots \text{ h } \dots \text{ min}$

$4 \text{ min } 25 \text{ s} + 2 \text{ min } 55 \text{ s} = \dots \text{ min } \dots \text{ s}$

## DÉTERMINER UN INSTANT

6 À quelle heure arrivent ces différents bus ?

ANDÉ → PARIS 	durée du trajet : 1 h 45				
PIERRE PICARD	7:20	8:20	9:25	10:40	11:35
MAIRIE ST PIERRE	↓	↓	↓	↓	↓
PETIT MONT					
MAIRIE ST ÉTIENNE					
LA VILLETTE					
PARIS					