



Le globe, le planisphère

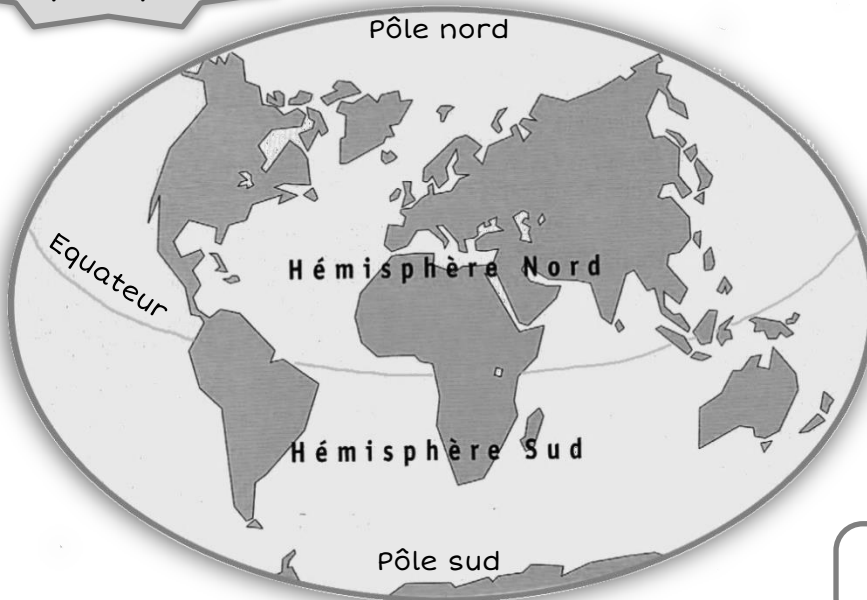
La Terre est une immense boule.

- On peut la représenter sous la forme d'un globe terrestre.
- On peut aussi la représenter sous la forme d'un planisphère, une carte, comme si coupait et on déroulait le globe.

Sur ces représentations on trouve des repères :

- Les pôles Nord et Sud
- L'équateur, une ligne imaginaire qui partage la Terre en deux parties égales, les hémisphères.

Un planisphère



1 Lis le texte et réponds

1 Quelle est la forme de la Terre ?

2 Comment s'appelle la représentation sous la forme d'une boule ?

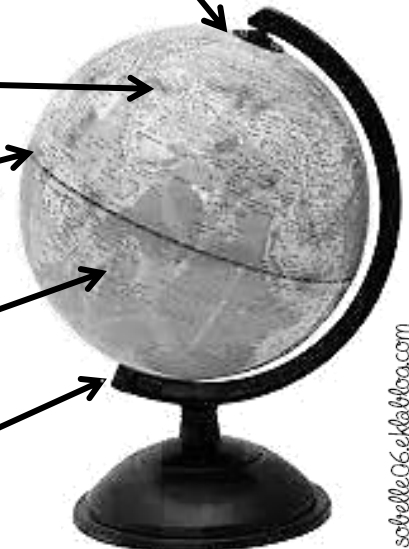
3 Quelle représentation permet de voir la Terre d'un seul coup d'œil ?

2 Ecris au bout des flèches les mots corrects

Un globe

Pour t'aider, voici les mots à placer

- Hémisphère sud
- Pôle sud
- Hémisphère nord
- Équateur
- Pole Nord





Les continents, les océans



3 Sur la carte ci-contre, entoure en rouge les océans et en bleu les continents

La Terre est en grande partie recouverte par les océans et les mers.

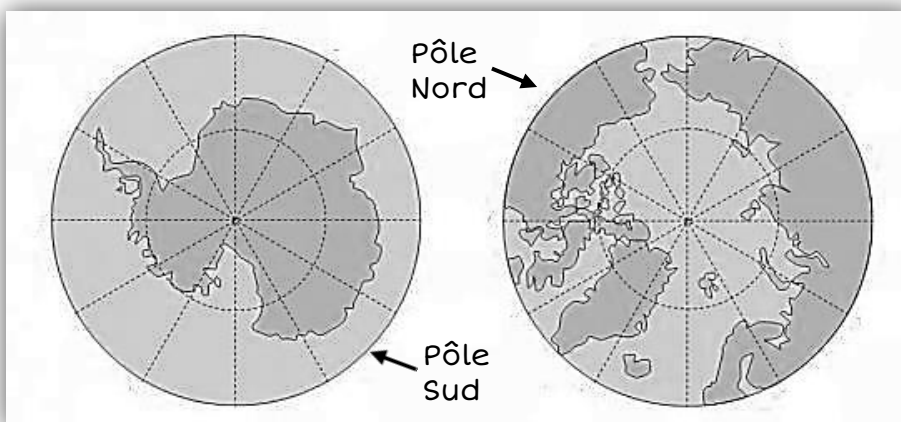
Ils occupent les trois quarts du globe.

La Terre compte 6 continents :

- L'Amérique, l'Europe, l'Asie et l'Afrique se présentent comme d'immenses terres.
- L'Océanie est un ensemble d'îles.
- Le Pôle Sud est occupé par un continent recouvert de glace et de neige : l'Antarctique.

4 Ecris le nom des 5 océans

- 1 _____
- 2 _____
- 3 _____
- 4 _____
- 5 _____



Le gris foncé correspond à la glace

5 Ecris la bonne réponse

1 Je suis une petite étendue d'eau salée bordée par un continent.

Je suis _____

2 Je suis un continent composé de petites îles.

Je suis _____

3 Je suis le plus grand océan du monde.

Je suis _____

Il n'y a pas de continent au pôle Nord, mais la surface de l'océan est gelée et constitue une immense étendue de glace tant il fait froid.

On l'appelle la banquise.



Le globe, le planisphère

La Terre est une immense boule.

- On peut la représenter sous la forme d'un globe terrestre.
- On peut aussi la représenter sous la forme d'un planisphère, une carte, comme si coupait et on déroulait le globe.

Sur ces représentations on trouve des repères :

- Les pôles Nord et Sud
- L'équateur, une ligne imaginaire qui partage la Terre en deux parties égales, les hémisphères.

1 Lis le texte et réponds

1 Quelle est la forme de la Terre ?

C'est une boule

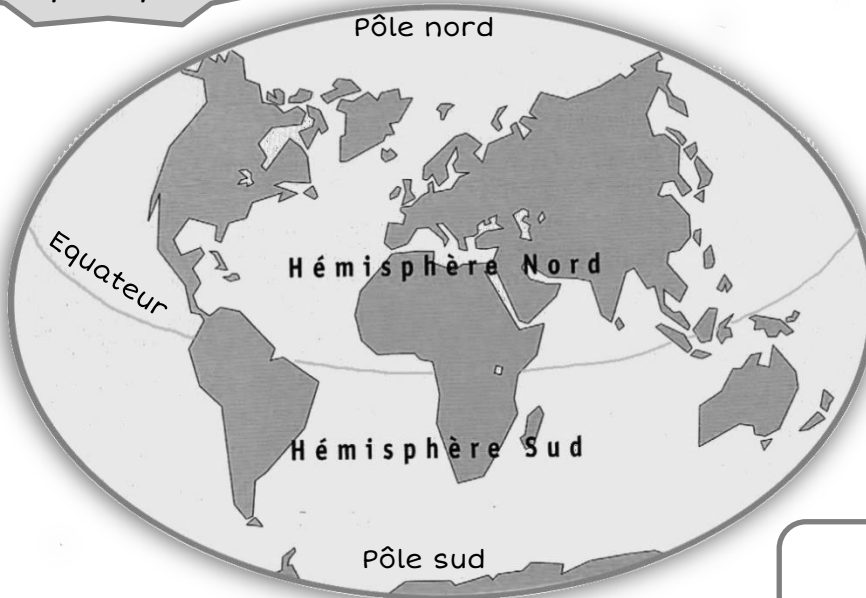
2 Comment s'appelle la représentation sous la forme d'une boule ?

Un globe

3 Quelle représentation permet de voir la Terre d'un seul coup d'œil ?

Un planisphère

Un planisphère



2 Ecris au bout des flèches les mots corrects

Un globe

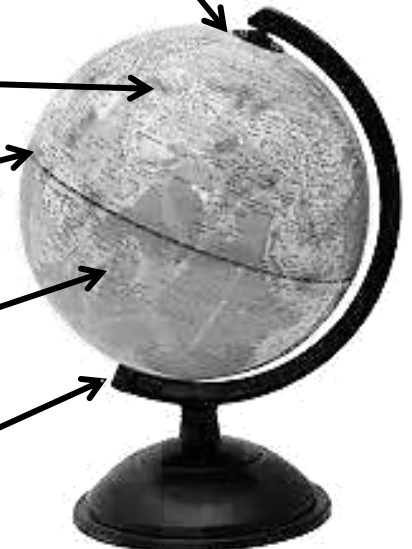
Pôle Nord

hémisphère nord

équateur

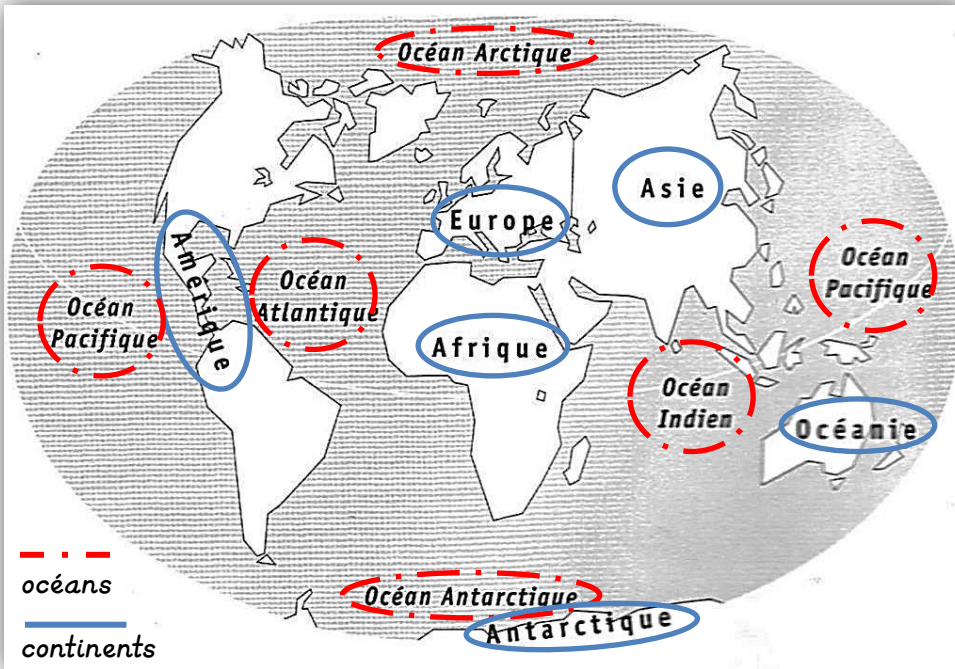
hémisphère sud

Pôle Sud





Les continents, les océans



3 Sur la carte ci-contre, entoure en rouge les océans et en bleu les continents

La Terre est en grande partie recouverte par les océans et les mers.

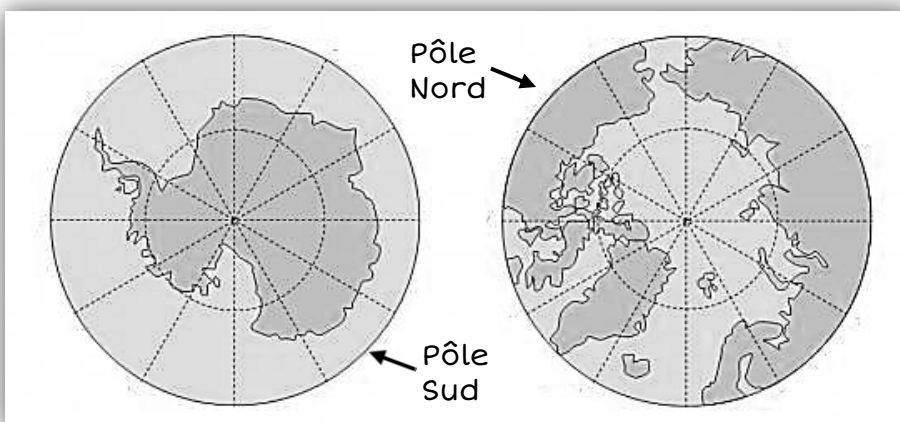
Ils occupent les trois quarts du globe.

La Terre compte 6 continents :

- L'Amérique, l'Europe, l'Asie et l'Afrique se présentent comme d'immenses terres.
- L'Océanie est un ensemble d'îles.
- Le Pôle Sud est occupé par un continent recouvert de glace et de neige : l'Antarctique.

4 Ecris le nom des 5 océans

- 1 Océan Pacifique
- 2 Océan Atlantique
- 3 Océan Indien
- 4 Océan Arctique
- 5 Océan Antarctique



Le gris foncé correspond à la glace

5 Ecris la bonne réponse

1 Je suis une petite étendue d'eau salée bordée par un continent.
Je suis **une mer**

2 Je suis un continent composé de petites îles.
Je suis **l'Océanie**

3 Je suis le plus grand océan du monde.
Je suis **l'Océan Pacifique**

Il n'y a pas de continent au pôle Nord, mais la surface de l'océan est gelée et constitue une immense étendue de glace tant il fait froid.

On l'appelle la banquise.



Je retiens

■ On peut représenter la Terre de 2 façons :

- avec un _____ : c'est un objet en forme de boule.
- avec un _____ : c'est une carte sur laquelle on peut voir la Terre d'un seul coup d'œil.

■ Sur ces représentations de la Terre on trouve des repères :

L' _____, les hémisphères Nord et Sud et les _____.

■ La Terre est en grande partie recouverte par les _____ et les _____.

■ Elle compte ___ océans :

L'Océan Pacifique, l'Océan Atlantique, l'Océan Indien, l'Océan Arctique, l'Océan Antarctique.

■ Elle compte ___ continents :

L'Amérique, l'Afrique, l'Europe, l'Asie, l'Océanie et l'Antarctique.



Lexique

Globe : Représentation en rond de la Terre

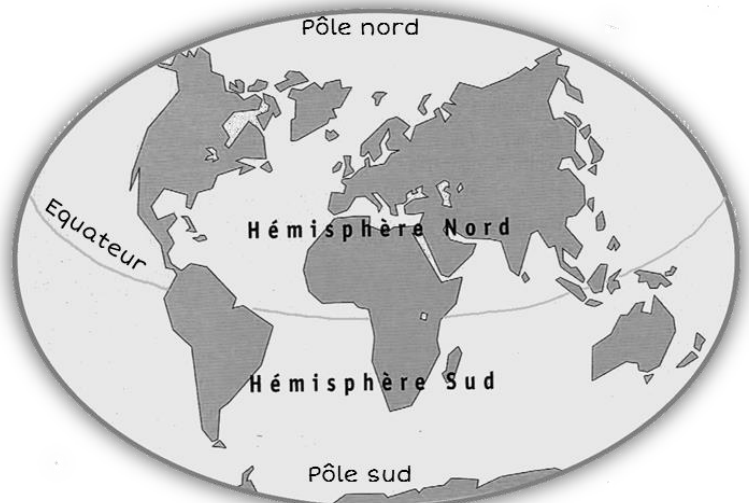
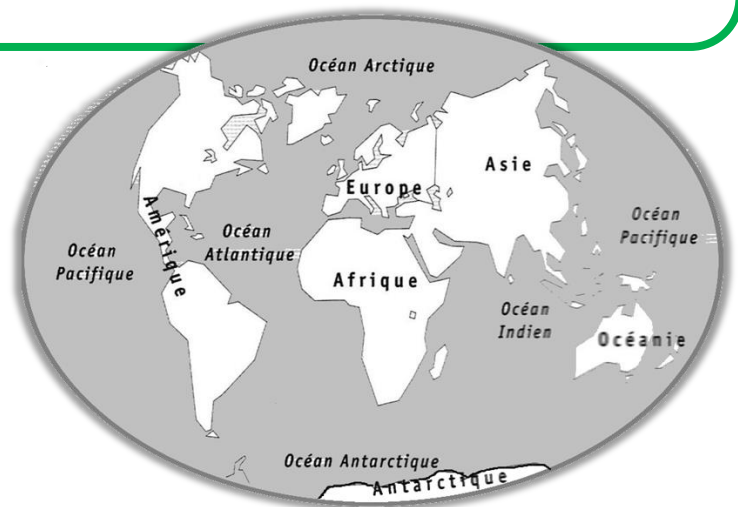
Planisphère : Représentation de la Terre tout à plat

Pôle : Extrémité nord ou sud de la Terre

Équateur : Ligne imaginaire qui se trouve à égale distance des deux pôles et qui partage la Terre en deux moitiés.

Hémisphère : La moitié nord ou la moitié sud de la Terre limitée par l'équateur.

Continent : Immense étendue de terre ou immense ensemble d'îles entourés par les mers ou les océans.





Je retiens

- On peut représenter la Terre de 2 façons :
 - avec un **globe** : c'est un objet en forme de boule.
 - avec un **planisphère** : c'est une carte sur laquelle on peut voir la Terre d'un seul coup d'œil.
- Sur ces représentations de la Terre on trouve des repères :
L' **équateur**, les hémisphères Nord et Sud et **les pôles Nord et Sud**.
- La Terre est en grande partie recouverte par les **océans** et les **mers**.
- Elle compte **5** océans :
L'Océan Pacifique, l'Océan Atlantique, l'Océan Indien, l'Océan Arctique, l'Océan Antarctique.
- Elle compte **6** continents :
L'Amérique, l'Afrique, l'Europe, l'Asie, l'Océanie et l'Antarctique.

Lexique

Globe : Représentation en rond de la Terre

Planisphère : Représentation de la Terre tout à plat

Pôle : Extrémité nord ou sud de la Terre

Équateur : Ligne imaginaire qui se trouve à égale distance des deux pôles et qui partage la Terre en deux moitiés.

Hémisphère : La moitié nord ou la moitié sud de la Terre limité par l'équateur.

Continent : Immense étendue de terre ou immense ensemble d'îles entourés par les mers ou les océans.

