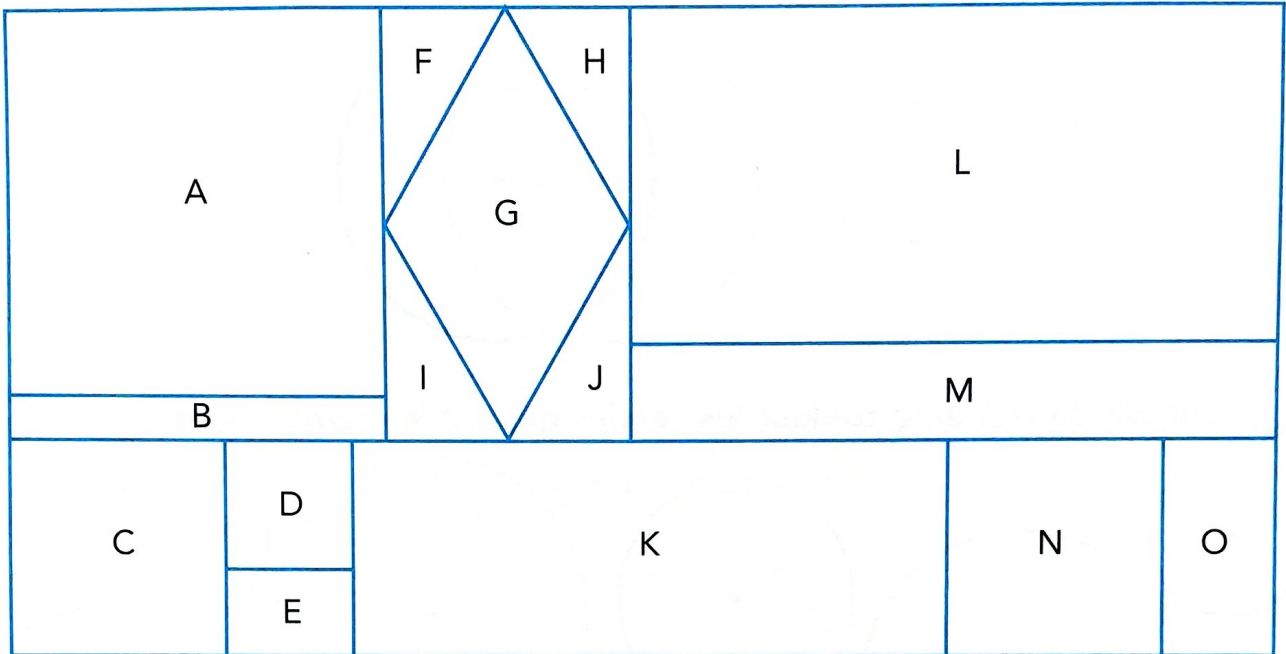


1 Qui suis-je ?



- Nous sommes deux carrés identiques. Nous sommes
- Je suis le plus petit des carrés de cet assemblage. Je suis
- Mes quatre côtés sont égaux mais je ne suis pas un carré. Je suis
- Je suis le plus petit des rectangles de cet assemblage. Je suis
- Je suis le plus grand des rectangles de cet assemblage. Je suis
- En réunissant les figures F, G, H, I, J, on obtient un

2 Construis les carrés et les rectangles à partir de ces mesures.

| | Carré A | Carré B | Rectangle C | Rectangle D |
|------------------|---------|---------|-----------------------------------|-----------------------------------|
| Mesure des côtés | 3 cm | 2 cm | Longueur : 3 cm Largeur : 2 cm | Longueur : 2 cm Largeur : 1 cm |







11

Reconnaitre et construire un carré, un rectangle

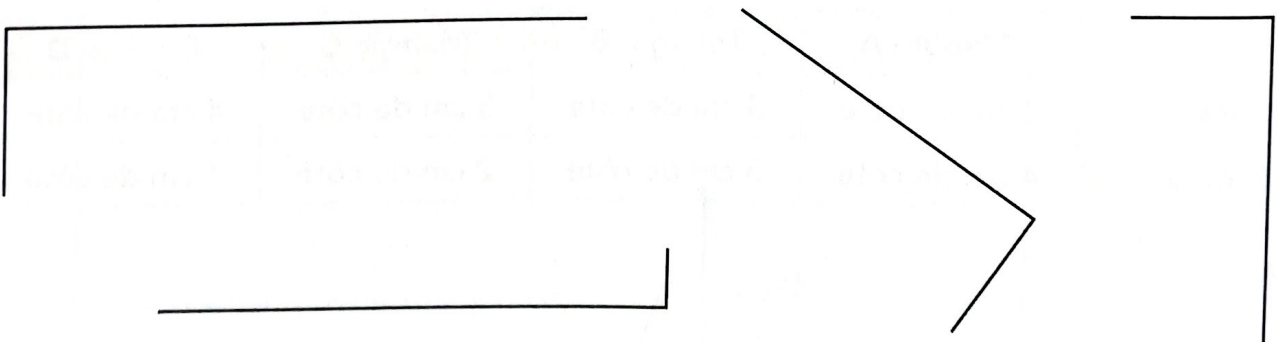
1 Colorie les carrés en bleu et les rectangles en jaune.



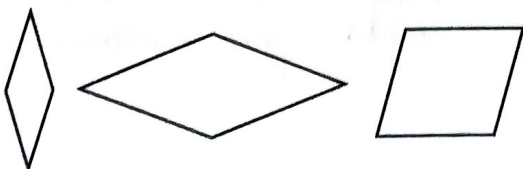
2 Poursuis le tracé de ces carrés.



3 Poursuis le tracé de ces rectangles.



4 Explique pourquoi ces figures ne sont pas des carrés.



Évaluation

Un pétale par exercice juste. Colorie ton résultat.

