



**4** ✨ ✨ **POSE ET EFFECTUE LES MULTIPLICATIONS.**

$$672 \times 4$$




$$704 \times 3$$




**5** ✨ ✨ **POSE ET EFFECTUE LES MULTIPLICATIONS.**

$$108 \times 8$$



$$571 \times 9$$



**6** ✨ ✨ **PROBLÈME** Une femelle hamster peut avoir en moyenne 8 petits par portée et cela tous les mois. **Combien de petits une femelle hamster peut-elle avoir en 18 mois ?**




**7** ✨ ✨ **PROBLÈME** Monsieur Durand a ramassé ses pommes dans le verger. Il remplit des cagettes. Dans chaque cagette, il y a 6 rangées de 18 pommes.

**a.** Combien de pommes Monsieur Durand a-t-il dans une cagette ?

Monsieur Durand remplit 7 cagettes.

**b.** Combien de pommes Monsieur Durand a-t-il ramassées en tout ?



**8** ✨ ✨ **PROBLÈME** La propriétaire d'un golf reçoit 3 cartons de 655 balles et 5 cartons de 1 185 balles. **Combien de balles reçoit-elle au total ?**

