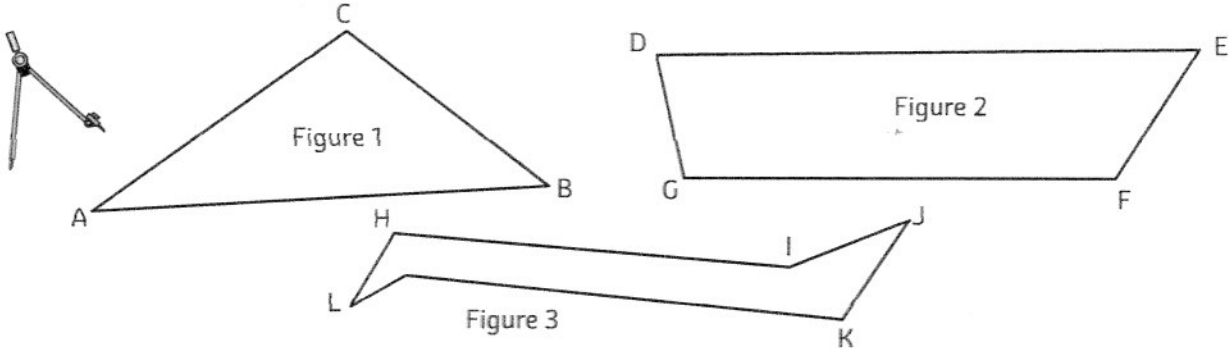




COMPARER DES PÉRIMÈTRES

① **Construis** en reportant, à l'aide de ton compas, un segment de même longueur que le périmètre de chaque figure.



P (Figure 1)

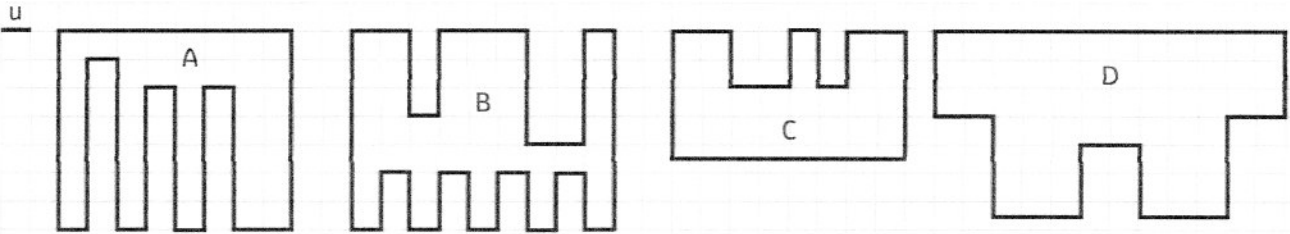
P (Figure 2)

P (Figure 3)

Range ces figures dans l'ordre croissant de leur périmètre :

TROUVER LA VALEUR DES PÉRIMÈTRES

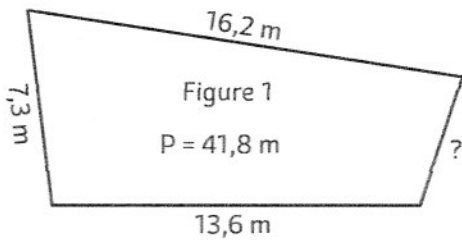
② **Trouve** le périmètre de ces figures en unités de longueurs (u).



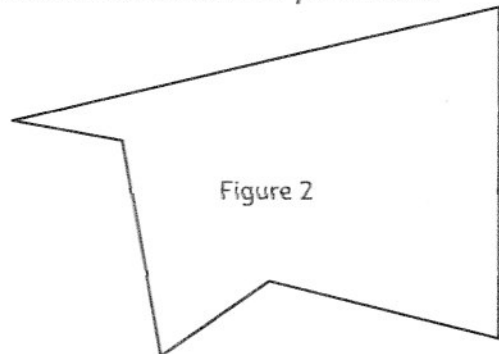
P (Figure A) = P (Figure B) = P (Figure C) = P (Figure D) =

CALCULER ET MESURER DES PÉRIMÈTRES

③ **Calcule** en mètres la donnée manquante.



④ **Mesure et calcule** ce périmètre.



P (fig2) =

