


## DÉFI MATHS N°20

Défi du vendredi	12 : 2	9 : 3	21 : 3	20 : 4	5 : 5	27 : 9	48 : 8	35 : 7	24 : 3
	36 : 9	27 : 3	6 : 3	36 : 6	45 : 9	24 : 4	42 : 6	40 : 5	64 : 8
	<p><u>Problème</u> : Dans un immeuble de 4 étages, il y a 32 appartements. Combien d'appartements y-a-t-il à chaque étage ?</p> <p>+ calculs rapides</p>								

<h3 style="margin: 0;">Défi calcul mental n°20</h3>	
---	---



Compétence travaillée : Diviser un nombre à deux chiffres par un nombre à un chiffre (sans reste).

...../ 30 points

1/ Ecris seulement le résultat.


2/ Problème : \_\_\_\_\_

3/ Calcule le plus rapidement possible.

<input type="checkbox"/>		<input type="checkbox"/>	
<input type="checkbox"/>		<input type="checkbox"/>	<input type="checkbox"/>

16 : 2 = .....    12 : 3 = .....    36 : 4 = .....    35 : 7 = .....    81 : 9 = .....

42 : 7 = .....    16 : 8 = .....    30 : 5 = .....    24 : 8 = .....    72 : 8 = .....