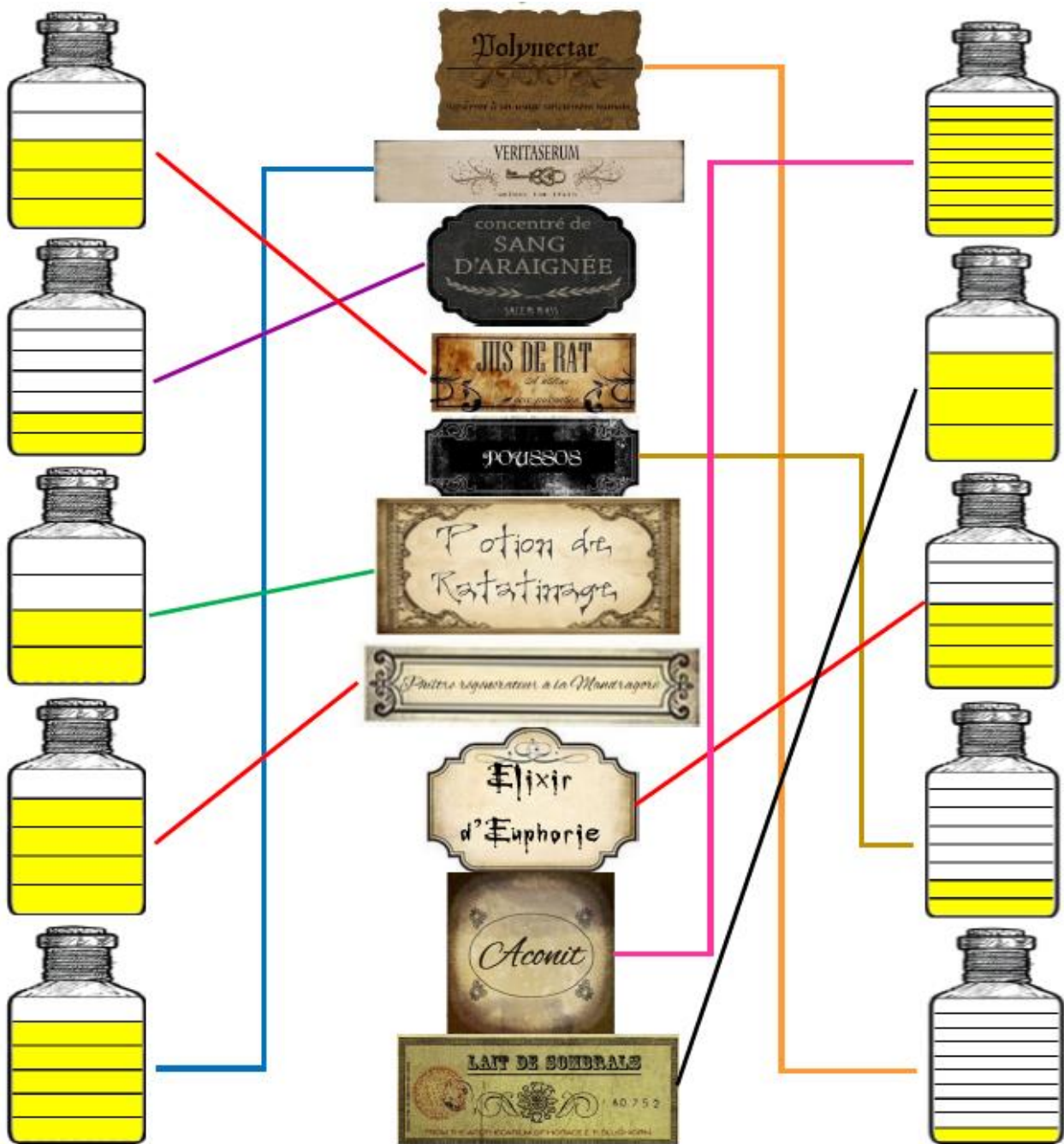


VENDREDI 03 AVRIL 2020

Matières	Contenu	Documents joints								
DEFI DU JOUR		Fiche "correction défi du jour"								
MATHEMATIQUES CALCUL MENTAL	<p>Mathador:</p> <p>Nombre cible : 58 Nombres donnés : 14 - 2 - 4 - 6 - 9</p> <p>Rappel : addition = 1pt multiplication = 1pt Soustraction = 2 pts division = 3 pts</p> <p>Coup Mathador : Solution à 5 points:</p> <table style="width: 100%; border: none;"> <tr> <td style="width: 50%;">6+4 = 10</td> <td style="width: 50%;">9 x 4 = 36</td> </tr> <tr> <td>14 x 9 = 126</td> <td>36 - 6 = 30</td> </tr> <tr> <td>126 - 10 = 116</td> <td>14 x 2 = 28</td> </tr> <tr> <td>116 : 2 = 58</td> <td>30 + 28 = 58</td> </tr> </table>	6+4 = 10	9 x 4 = 36	14 x 9 = 126	36 - 6 = 30	126 - 10 = 116	14 x 2 = 28	116 : 2 = 58	30 + 28 = 58	
6+4 = 10	9 x 4 = 36									
14 x 9 = 126	36 - 6 = 30									
126 - 10 = 116	14 x 2 = 28									
116 : 2 = 58	30 + 28 = 58									
MATHEMATIQUES Gestion de données		Fiche "correction exercices gestion de données"								
ORTHOGRAPHE		Fiche "Correction exercices orthographe"								


Aide le professeur Rogue à remettre de l'ordre dans ses potions. Il faut étiqueter les flacons. Retrouve les noms des potions grâce à leur contenance (change de couleur pour relier à chaque potion). Il reste :

- ◊ 1/10 de POLYNECTAR
- ◊ 5/6 de VERITASERUM
- ◊ 2/7 de CONCENTRÉ DE SANG D'ARIGNÉE
- ◊ trois cinquièmes de JUS DE RAT
- ◊ un quart de POUSSOS
- ◊ 1/2 de POTION DE RATATINAGE
- ◊ 4/5 de Philtre régénérateur à la MANDRAGORE
- ◊ quatre septièmes d'ELIXIR D'EUPHORIE
- ◊ neuf dixièmes d'ACONIT
- ◊ trois quarts de LAIT DE SOMBRALS



5 ****** Une cannette de soda contient en moyenne 35 g de sucre.

- Construis un tableau indiquant la quantité de sucre pour 1, 2, 3, 4, 5 et 10 cannettes.
- Construis un graphique avec une courbe pour représenter ces données, en indiquant :
 - le nombre de cannettes sur l'axe horizontal (gradué de 1 en 1 jusqu'à 10) ;
 - la quantité de sucre en grammes sur l'axe vertical (gradué de 35 g en 35 g).
- Que peux-tu dire de ce graphique ?



Une aide est apportée en page 2 si besoin!

4 ****** Lis attentivement les horaires d'ouverture du musée d'Orsay, puis reproduis et complète le tableau.

Musée d'Orsay

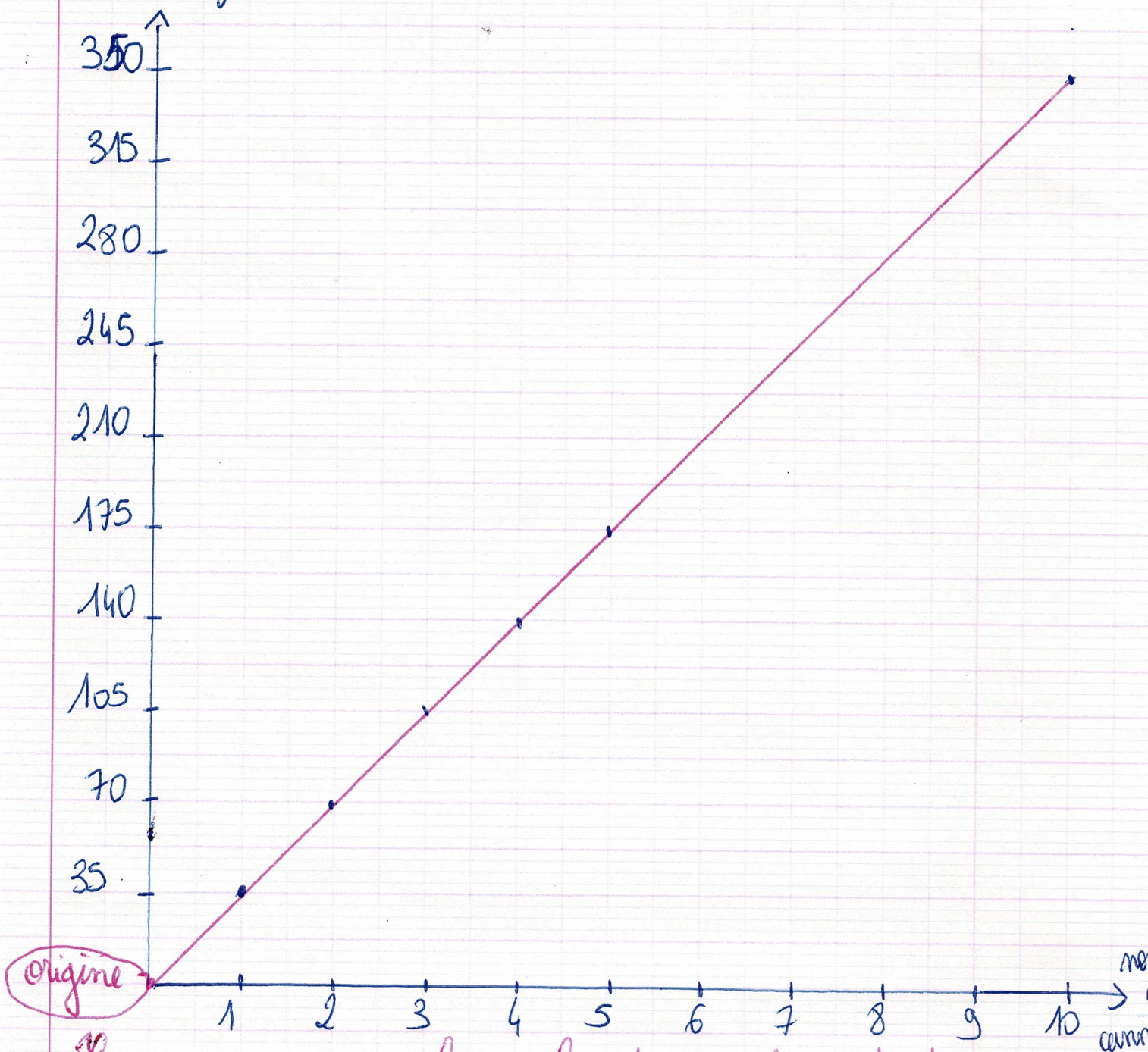
- ▶ Ouverture de 9 h 30 à 18 h le mardi, le mercredi, le vendredi, le samedi et le dimanche.
- ▶ Ouverture de 9 h 30 à 21 h 45 le jeudi (nocturne).
- ▶ Vente des billets jusqu'à 17 h, 21 h le jeudi.
- ▶ Évacuation à partir de 17 h 30, 21 h 15 le jeudi.
- ▶ Groupes admis, sur réservation uniquement, du mardi au samedi de 9 h 30 à 16 h, jusqu'à 20 h le jeudi.

	mardi	mercredi	jeudi	vendredi	samedi	dimanche
horaires d'ouverture	9h30 18h	9h30 18h	9h30 21h45	9h30 18h	9h30 18h	9h30 18h
horaires de vente des billets	9h30 17h	9h30 17h	9h30 21h	9h30 17h	9h30 17h	9h30 17h
début de l'évacuation	17h30	17h30	21h15	17h30	17h30	17h30
horaires d'admission des groupes	9h30 à 16h	9h30 à 16h	9h30 à 20h	9h30 à 16h	9h30 à 16h	/

tableau

	$\overbrace{\hspace{10em}}^{x \cdot 2}$					
nombre de cigarettes	1	2	3	4	5	10
quantité de sucre	35g	70g	105	140	175	350
	$\underbrace{\hspace{10em}}_{x \cdot 2}$					

sucre (eng)



On remarques que la courbe est une ligne droite qui passe par l'origine du graphique.

LES NOMS EN AIL, EIL, EUIL, OUIL
CORRECTION

1) Range ces mots dans la bonne colonne.

Noms féminins	Noms masculins
oreille corbeille paille ferraille corbeille groseille canaille abeille bouteille muraille taille	rail chevreuil portail réveil travail écureuil

2) Complète les mots inachevés.

Les ouvriers se mettent au travail. — La volaille picore le grain. — L'enfant bien portant a un sommeil calme. — En hiver, je mets un chandail de laine. — Maman fait des confiture de groseille. — Le TGV roule sur des rails. — Le lierre s'agrippe à la muraille. — Ce magasin vend des appareils pour l'informatique. — Les vacanciers ont fait une bataille de polochons. — La ruche est la maison des abeilles. — Le lapin se cache dans les broussailles. — L'écureuil monte à l'arbre. — Ma soeur s'est fait tomber un dictionnaire sur les orteils.

3) Complète ce mots-croisés avec les définitions.

- 1 → On peut la remplir d'eau.
- 2 → On le fait tous les jours à l'école.
- 3 → On écrit dessus.
- 4 → On en a dix aux pieds.
- 5 → C'est un siège au salon.
- 6 → Elle sert à entendre.

