

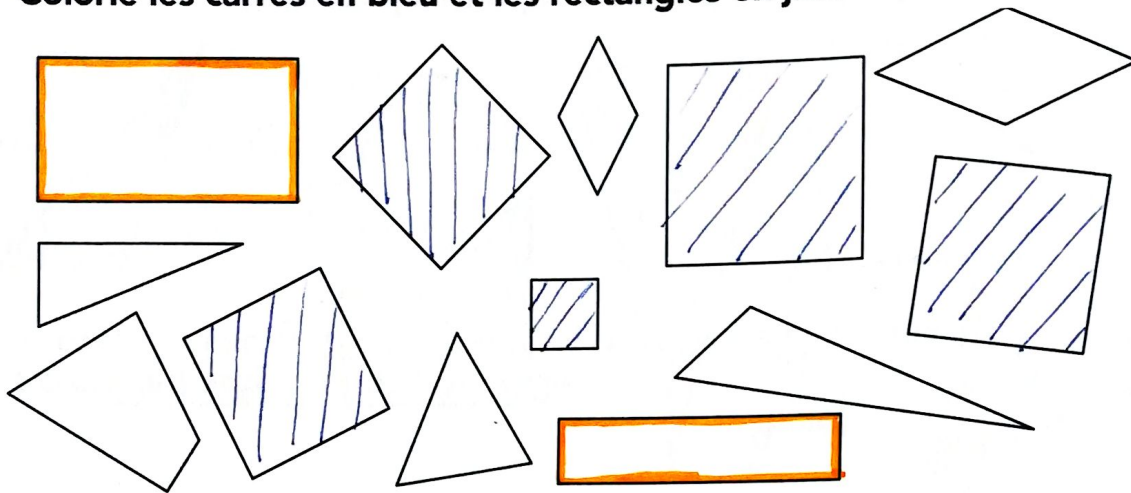


11

# Reconnaitre et construire un carré, un rectangle

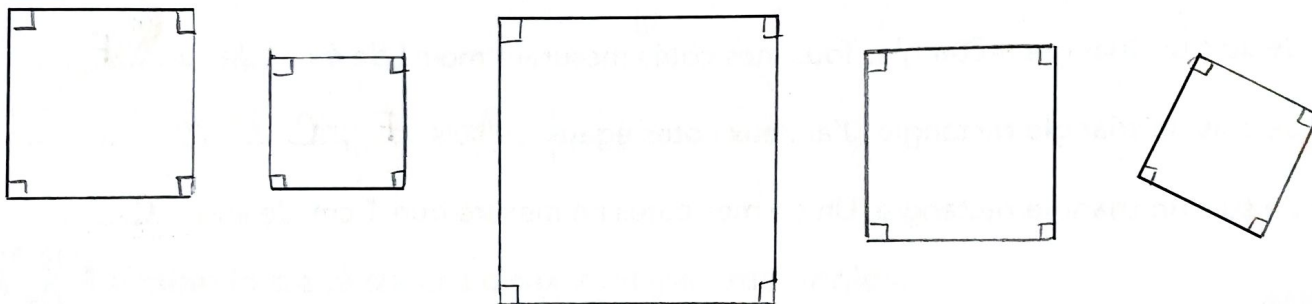
1

Colorie les carrés en bleu et les rectangles en jaune.



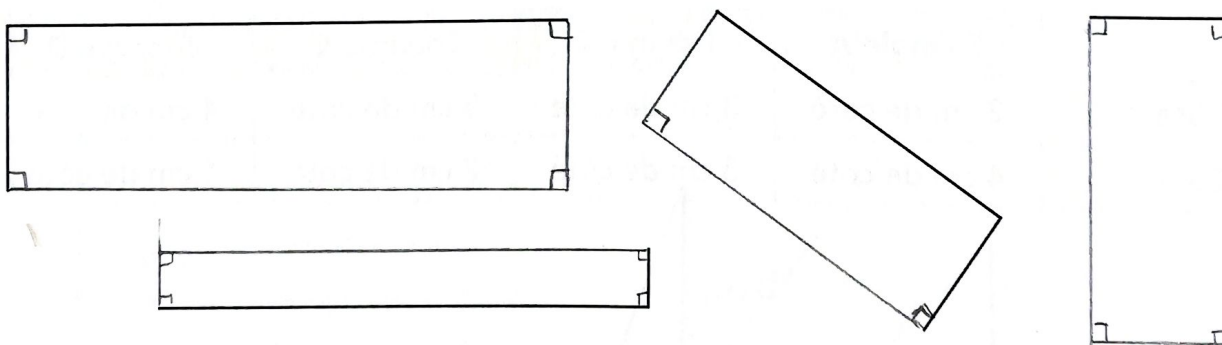
2

Poursuis le tracé de ces carrés.



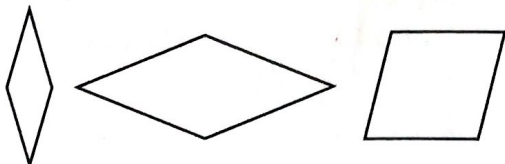
3

Poursuis le tracé de ces rectangles.



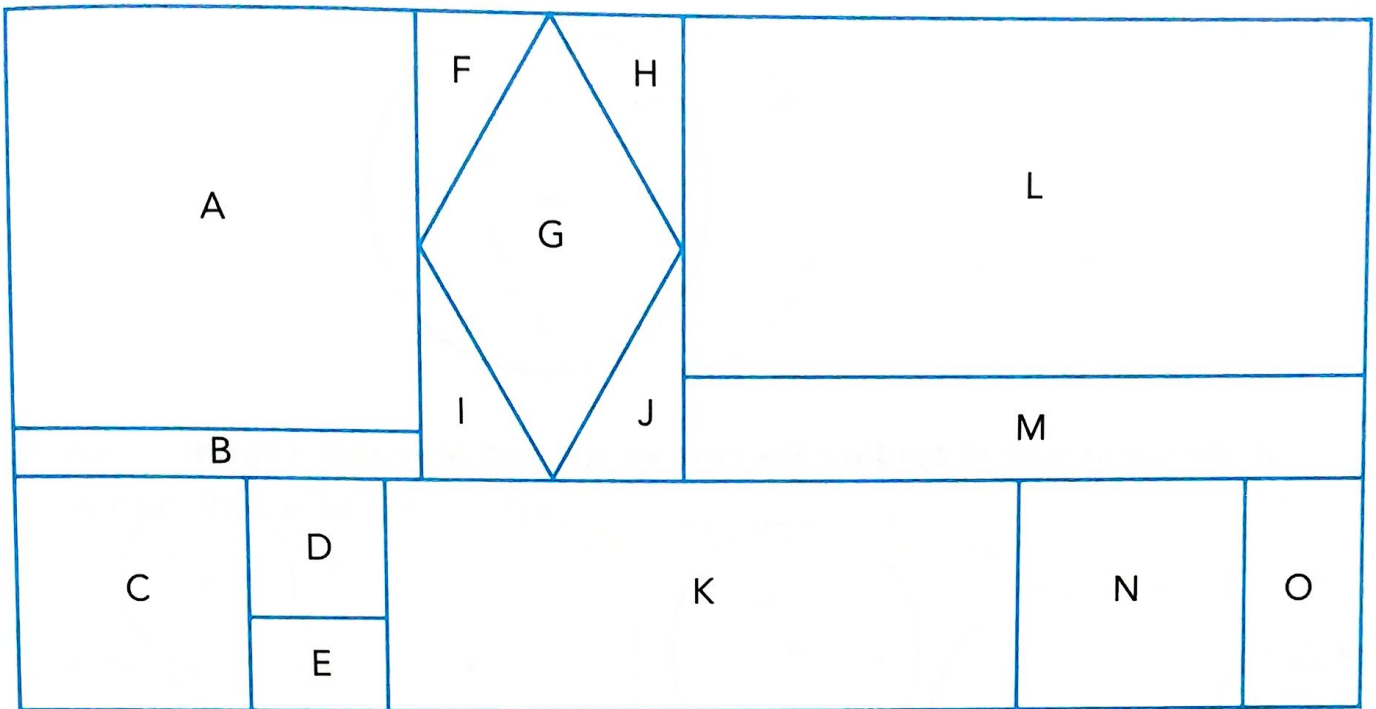
4

Explique pourquoi ces figures ne sont pas des carrés.



...Elles n'ont pas d'angles droits...

## 1 Qui suis-je ?



- Nous sommes deux carrés identiques. Nous sommes ..... *C et N* .....
- Je suis le plus petit des carrés de cet assemblage. Je suis ..... *D* .....
- Mes quatre côtés sont égaux mais je ne suis pas un carré. Je suis .... *G* .....
- Je suis le plus petit des rectangles de cet assemblage. Je suis ..... *E* .....
- Je suis le plus grand des rectangles de cet assemblage. Je suis ..... *L* .....
- En réunissant les figures F, G, H, I, J, on obtient un ..... *rectangle* .....

## 2 Construis les carrés et les rectangles à partir de ces mesures.

	Carré A	Carré B	Rectangle C	Rectangle D
Mesure des côtés	3 cm	2 cm	Longueur : 3 cm Largeur : 2 cm	Longueur : 2 cm Largeur : 1 cm

