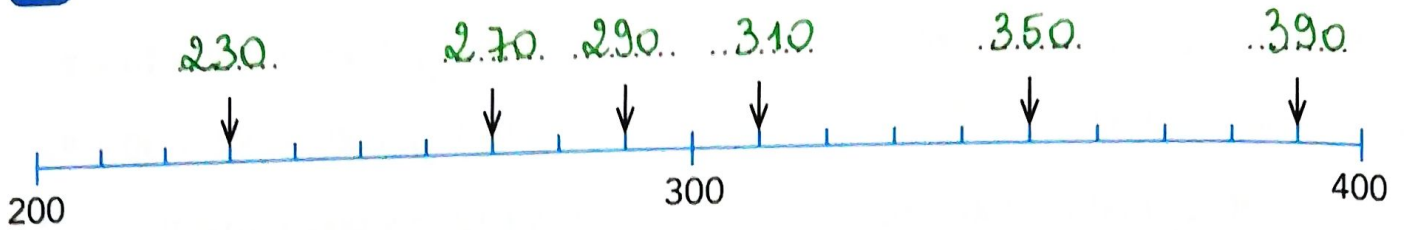
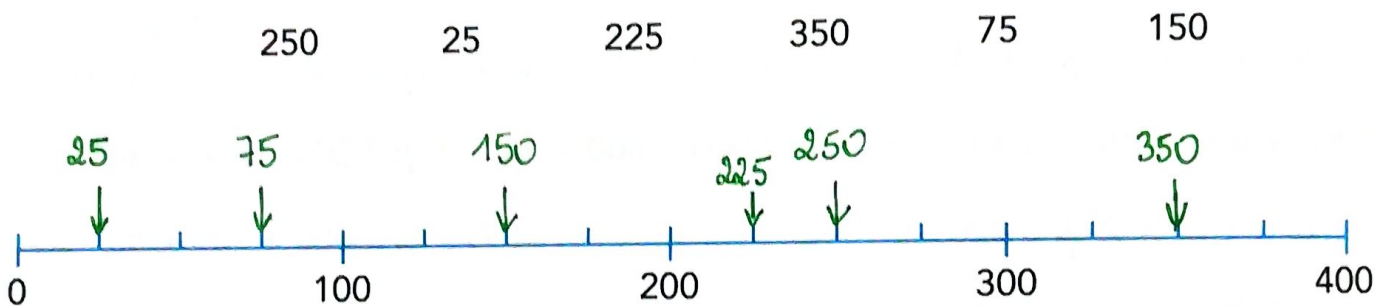

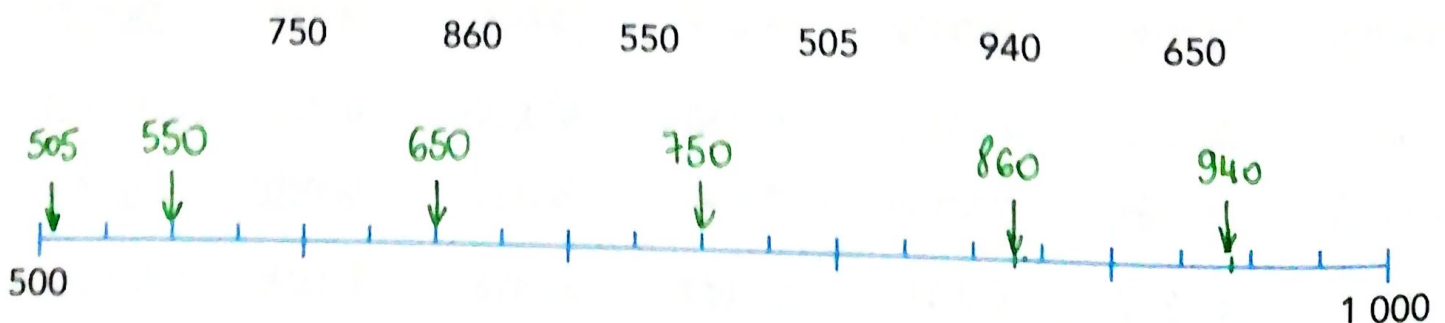


**11****Repérer et placer les nombres sur la demi-droite graduée****1** Écris pour chaque flèche le nombre qui convient.**2** Écris les nombres suivants au bon endroit sur la demi-droite graduée.**3** Écris pour chaque flèche le nombre qui convient.**4** Place les nombres suivants au bon endroit sur la demi-droite graduée.

★ 7 Additionner et soustraire avec des calculs posés

1 Effectue ces opérations en colonnes.

$$\begin{array}{r} 566 \\ + 123 \\ \hline \dots 689 \end{array}$$

$$\begin{array}{r} 447 \\ + 541 \\ \hline \dots 998 \end{array}$$

$$\begin{array}{r} \textcircled{1} \\ 846 \\ + 144 \\ \hline \dots 990 \end{array}$$

$$\begin{array}{r} \textcircled{1} \\ 763 \\ + 286 \\ \hline \dots 1049 \end{array}$$

2 Effectue ces opérations en colonnes.

$$\begin{array}{r} \textcircled{1} \\ 122 \\ + 264 \\ + 263 \\ \hline \dots 649 \end{array}$$

$$\begin{array}{r} 212 \\ + 104 \\ + 602 \\ \hline \dots 918 \end{array}$$

$$\begin{array}{r} \textcircled{1} \\ 185 \\ + 14 \\ + 280 \\ \hline \dots 479 \end{array}$$

$$\begin{array}{r} \textcircled{1} \\ 232 \\ + 322 \\ + 893 \\ \hline \dots 1447 \end{array}$$

3 Pose et effectue ces opérations. Reporte le résultat.

$284 + 512 = \dots 796 \dots$

	2	8	4	
+	5	1	2	
<hr/>				
	7	9	6	

$128 + 81 = \dots 209 \dots$

	1	2	8	
+		8	1	
<hr/>				
	2	0	9	

$786 + 116 = \dots 902 \dots$

	7	8	6	
+	1	1	6	
<hr/>				
	9	0	2	

$237 + 187 = \dots 424 \dots$

	2	3	7	
+	1	8	7	
<hr/>				
	4	2	4	

4 Effectue ces opérations à trous.

$$\begin{array}{r} 232 \\ + 112 \\ \hline 344 \end{array}$$

$$\begin{array}{r} 756 \\ + 243 \\ \hline 999 \end{array}$$

$$\begin{array}{r} \textcircled{1} \textcircled{1} \\ 584 \\ + 178 \\ \hline 762 \end{array}$$



$$\begin{array}{r} 2008 \\ - 804 \\ \hline 1204 \end{array}$$

