

## Mathématiques : lundi 25 mai

### 1 Activité ritualisée

- Complète la suite de nombres :

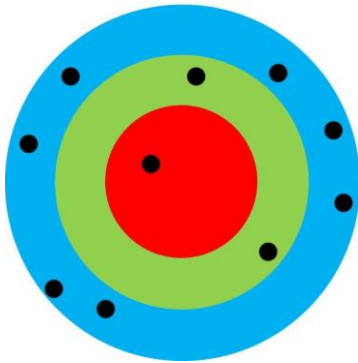
5	15	20	25	30	35	40	45	50	55	60	65
---	----	----	----	----	----	----	----	----	----	----	----

- Complète le tableau


Nombre précédent	Nombre	Nombre suivant
61	62	63
58	59	60
73	74	75
77	78	79

### 2 Calcul mental : jeu de la cible

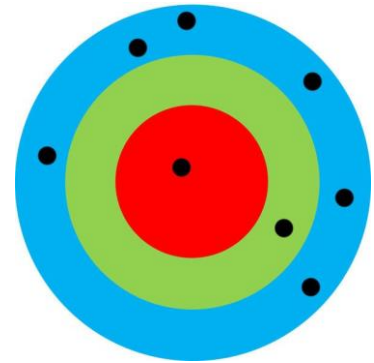
- Calcule et écris les scores sous chaque cible.



$$\begin{aligned} & 50 + 10 + 10 + 1 + 1 \\ & + 1 + 1 + 1 + 1 + 1 \\ & = 70 + 7 \\ & = 77 \end{aligned}$$



$$\begin{aligned} & 50 + 10 + 10 + 1 + 1 \\ & + 1 \\ & = 70 + 3 \\ & = 73 \end{aligned}$$



$$\begin{aligned} & 50 + 10 + 1 + 1 + 1 \\ & + 1 + 1 + 1 \\ & = 60 + 6 \\ & = 66 \end{aligned}$$

### 3 Résolution de problème

Lucia a 9 euros dans sa tirelire. Pour son anniversaire, Mamie lui a offert 3 livres qu'elle adore et un billet de 20 euros. Combien a-t-elle dans sa tirelire ?



$$9 + 20 = 29$$

Lucia a 29 euros.

#### 4 Apprentissage : tables d'addition de 1 à 9

+	1	2	3	4	5	6	7	8	9
1	2						8		
2	3				7	8			
3			6					11	
4			7						
5									14
6				10			13		
7								15	
8	9					14			
9				13	14				
10		12							19

- Calcul malin

$$9 + 3 + 5 = 9 + 1 + 2 + 5$$

$$\rightarrow 9 + 1 + 2 + 5 = 10 + 2 + 5$$

$$10 + 2 + 5 = 10 + 7$$

$$\rightarrow 10 + 7 = 17$$

$$8 + 6 + 7 + 5 = 8 + 2 + 4 + 7 + 5$$

$$\rightarrow 8 + 2 + 4 + 7 + 5 = 10 + 4 + 7 + 5$$

$$10 + 4 + 7 + 5 = 10 + 4 + 6 + 1 + 5$$

$$\rightarrow 10 + 4 + 6 + 1 + 5 = 10 + 10 + 1 + 5$$

$$10 + 10 + 1 + 5 = 20 + 6$$

$$\rightarrow 20 + 6 = 26$$

## Mathématiques : mardi 26 mai

### 1. Activité ritualisée

50	51	52	53	<b>54</b>	55	56	57	58	<b>59</b>
<b>60</b>	61	62	63	64	65	<b>66</b>	67	<b>68</b>	69
70	<b>71</b>	72	<b>73</b>	74	75	76	<b>77</b>	78	79

72 : *soixante-douze*

75 : *soixante-quinze*

69 : *soixante-neuf*

78 : *soixante-dix-huit*

### 2. Calcul mental

Le nombre de départ est 58. J'ajoute 1. J'enlève 1 dizaine. J'enlève 5. J'ajoute 2 dizaines. Quel nombre j'obtiens ?

$$58 + 1 = 59$$

$$59 - 1 \text{ dizaine} = 59 - 10 = 49$$

$$49 - 5 = 44$$

$$44 + 2 \text{ dizaines} = 44 + 20 = \underline{64}$$

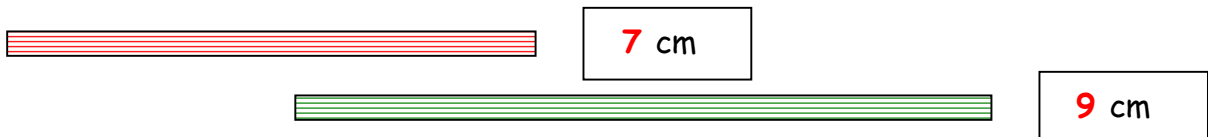
### 3. Résolution de problème

Lali a 24 chaussures. Elle veut les ranger par 2 dans des boîtes. Combien de boîtes utilisera-t-elle?

	<p>Je fais des paquets de 2 chaussures.</p> <p>Je compte le nombre de paquets.</p> <p>J'ai fait 12 paquets.</p> <p>Lali utilisera 12 boîtes.</p>
---	--

### 4. Apprentissage : les mesures

Mesure les pailles avec ta règle graduée, puis écris leur longueur.



Mesure les segments avec ta règle graduée, puis écris leur longueur.

