

Corrections du travail du jeudi 2 avril

Les familles de mots

6- radical

- a) journ - b) util – c) fil – d) lav

7- mots intrus

- a) habiller – b) engranger - c) vente - d) comte -e) volonté

8- mots famille de lait

des vaches laitières – des produits laitiers – des laitages – les mammifères allaitent – Une laiterie – Voie lactée

9- Famille de mont



montagne – montagneux – montagnard – amont – monticule – monter...

Lecture : La boîte de Pandore

2

Mots croisés

*J'espère que ce mot croisé t'a plu !
😊*



¹ O U S I Q U E

² M U S I Q U E

³ C D L A M I T É S

⁴ E S P É R A N C E

⁵ C A L A M I T É S

⁶ S Û R i O S

⁷ E S P É R A N C E

⁸ V E A R O U I L L É E

⁹ F E U

Horizontalement

2. Pandore en joue très bien.
5. Elles sortent de la boîte.
6. Tel l'endroit où doit être cachée la boîte.
7. Elle sortit discrètement en dernier de la boîte.
8. La boîte offerte par Zeus l'est.
9. Prométhée le donna aux hommes.

Verticalement

1. La boîte donnée par Zeus ne doit jamais l'être.
3. Epiméthée ne veut pas susciter celle de Zeus.
4. Les hommes le garderont toujours.
5. Celle de Pandore provoque bien des malheurs.



15 Compléter des suites de nombres

- 1** Poursuis les suites de nombres pour Alexis, Olivier et Claire. Fais bien attention à la règle de chacun. Propose une suite pour Manon en indiquant dans l'étiquette la règle que tu as choisie.

Manon de 10 en 10

Alexis de 100 en 100

Claire de 1 en 1

Olivier de 10 en 10

Manon peut aussi faire une suite de 1 en 1 (de 883 à 892) ou de 100 en 100 (de 190 à 1090).

- 2** Écris les nombres de 10 en 10 de 3 090 à 3 260.

3 090 - 3 100 - 3 110 - 3 120 - 3 130 - 3 140 - 3 150 - 3 160 - 3 170 -
3 180 - 3 190 - 3 200 - 3 210 - 3 220 - 3 230 - 3 240 - 3 250 - 3 260

- 3** Écris les nombres de 100 en 100 de 698 à 1 898.

698 - 798 - 898 - 998 - 1 098 - 1 198 - 1 298 - 1 398 - 1 498 - 1 598 -
1 698 - 1 798 - 1 898

Évaluation

Exercice 1 : un pétale pour deux suites justes.
Exercices 2 et 3 : un pétale par exercice juste. Colorie ton résultat.




**17****Résoudre des problèmes variés****1 La commande de fournitures**

La directrice de l'école des Lilas effectue une commande de fournitures.

Calcule le montant des achats puis le prix à payer une fois la remise déduite.

Inscris tes résultats dans ce tableau.

Article	Prix à l'unité	Nombre d'articles commandés	Prix total
Ramette de papier	20 €	10	200 €
Pochette de feutres	12 €	12	144 €
Cahier de brouillon	2 €	75	150 €
Crayon à papier	1 €	70	70 €
Règle	2 €	65	130 €
Ciseaux	3 €	90	270 €
Total			964 €
Remise exceptionnelle			45 €
Prix à payer			919 €

**2 Les étagères de la bibliothèque**

La bibliothèque de l'école comporte trois grands meubles ayant chacun 8 étagères.

On peut ranger 75 livres sur chaque étagère.

Combien peut-on ranger de livres en tout dans la bibliothèque ?

$$75 \times 8 = 600 \quad 600 \times 3 = 1800$$

On peut ranger 1800 livres en tout.

Évaluation

Trois pétales pour l'exercice 1 juste, un pétale pour l'exercice 2 juste. Colorie ton résultat.

