

Période 5 **Fiche d'accompagnement à la lecture**

Épisode 1 – Lecture puzzle



- On est bientôt arrivés ?
- Oui, Gaufrette.
- On ira tout de suite le chercher, le trésor ?
Papy m'a souri, amusé.

3

- Le jour de mes six ans, Papy et moi on est partis en voyage en Espagne.
Rien que tous les deux. Dans le train, je lui ai demandé :
- On va vraiment chercher un trésor ?
 - Oui, Gaufrette ! il a répondu.


1

- Depuis toujours, Papy m'appelle comme ça : Gaufrette.
Parfois, il ajoute même à la vanille ou à la noisette.
Après le train, on a pris le bus. On roulait sur des petites routes
pleines de bosses et de trous. J'étais impatiente :

2

La lettre o – ou
 oi – on

- 1 Entoure en bleu les mots où tu vois **o**, _____
en vert les mots où tu vois **on**,
en rouge les mots où tu vois **oi**
et en jaune les mots où tu vois **ou**.



- 2 Recopie chaque mot dans la bonne colonne. _____

la foire • la boue • la pomme • une bougie
un doigt • un rond • un oiseau • la cour
un pont • un canon • un piano • un rocher

ou	oi	on	o
la boue	la foire	un rond	la pomme
une bougie	un doigt	un pont	un piano
la cour	un oiseau	un canon	un rocher

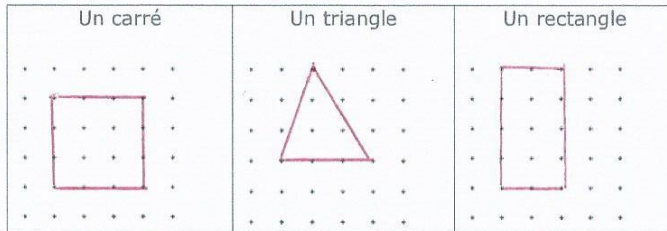
Module 15

- Relis la leçon 11
- Calcule le plus vite possible :

$5 + 5 = 10$	$8 + 8 = 16$	$6 + 6 = 12$	$2 + 2 = 4$
$0 + 0 = 0$	$9 + 9 = 18$	$1 + 1 = 2$	$7 + 7 = 14$

- Trace : *Plusieurs solutions*

1



- Représente les nombres en dessinant les barres de 10 et les cubes unités :


2



- Calcule :

$6 + 5 = 11$	$4 + 5 = 9$	$7 - 4 = 3$
--------------	-------------	-------------

- Calcule :



- Représente les nombres en dessinant les barres de 10 et les cubes unités :

3



- Compte à rebours de 29 à 15. *29-28-27-26-25-24-23-22-21-20-19-18-17-16-15-*

- Calcule :

$3 + 30 = 33$	$5 + 40 = 45$	$8 + 60 = 68$
---------------	---------------	---------------

- Complète avec la petite et la grande aiguille :

4



- Calcule :

$30 + 20 = 50$	$50 + 10 = 60$	$40 + 20 = 60$
----------------	----------------	----------------

- Calcule :

$4 + 6 = 11$	$5 + 8 = 13$	$9 - 7 = 2$
--------------	--------------	-------------

- Complète :

5

