

Parcours 2 Lire écrire et décomposer les nombres décimaux p 85 et 86

① Barre les zéros inutiles des nombres suivants.

~~035,40~~ ~~00421,50~~ ~~0020,130~~ ~~065,080~~ ~~0901,02~~ 32,060 ~~080,130~~

② Observe les suites de nombres et complète-les.

6,1	6,2	6,3	6,4	6,5	6,6	6,7
25,3	25,4	25,5	25,6	25,7	25,8	25,9
9,32	9,33	9,34	9,35	9,36	9,37	9,38
41,01	41,02	41,03	41,04	41,05	41,06	41,07

③ Complète le tableau.

35,6	trente-cinq unités six dixièmes
7,26	sept unités et vingt-six centièmes
5,63	cinq unités soixante-trois centièmes
87,06	quatre-vingt-sept unités et six centièmes
68,59	soixante-huit unités et cinquante-neuf centièmes

④ Entoure les nombres qui ont deux chiffres après la virgule.

trente-deux unités et trente-six centièmes	cent-vingt-trois unités et sept dixièmes
cinq unités et quatre-vingt-dix-huit centièmes	six-cent-huit unités et quatre centièmes
neuf unités et sept dixièmes	quarante-six unités cinquante-et-un centièmes

⑤ Sépare les parties entières et décimales comme dans l'exemple.

$45,7 = 45 + 0,7$	$6,9 = 6 + 0,9$	$9,75 = 9 + 0,75$
$7,89 = 7 + 0,89$	$35,69 = 35 + 0,69$	$60,08 = 60 + 0,08$
$469,09 = 469 + 0,09$	$300,7 = 300 + 0,7$	$4,07 = 4 + 0,07$

⑥ Écris en chiffres les nombres suivants dans le tableau.

	Partie entière			Partie décimale	
	Centaines	Dizaines	Unités	Dixièmes	Centièmes
neuf unités et huit dixièmes			9,	8	
quarante-neuf unités et sept centièmes		4	9,	0	7
soixante-deux unités et trente-quatre centièmes		6	2,	3	4
trois unités et vingt-six centièmes			3,	2	6
cent-sept unités et deux centièmes	1	0	7,	0	2

⑦ Décompose les nombres décimaux comme dans l'exemple.

$$26,23 = 20 + 6 + 0,2 + 0,03 \quad 61,45 = 60 + 1 + 0,4 + 0,05$$

$$35,4 = 30 + 5 + 0,4 \quad 3,06 = 3 + 0,06$$


$$7,58 = 7 + 0,5 + 0,08 \quad 20,29 = 20 + 0,2 + 0,09$$

⑧ Recompose les nombres décimaux suivants comme dans l'exemple.


$30 + 4 + 0,7 + 0,02 = 34,72$	$5 + 0,04 + 0,8 = 5,84$
$6 + 0,7 = 6,7$	$7 + 20 + 0,5 + 0,07 = 27,57$
$20 + 4 + 0,8 + 0,06 = 24,86$	$0,8 + 2 = 2,8$
$60 + 7 + 0,9 = 67,9$	$4 + 0,7 + 30 + 0,07 = 34,77$
$90 + 5 + 0,2 + 0,01 = 95,21$	$8 + 0,09 = 8,09$
$9 + 0,8 + 0,04 = 9,84$	$10 + 0,04 + 0,6 = 10,64$

LES MATHS DANS LA VIE


⑨ Combien d'argent possède chaque enfant ?
Donne ta réponse sous la forme d'un nombre décimal.



.....23,47..... €



.....18,54..... €



.....25,56..... €

Qui a le plus d'euros ? C'est Matisse qui a le plus d'argent.

DÉFI

⑩ Sors du labyrinthe en augmentant toujours de 0,1.



→	6,7	6,91	7,3	→	7,4	7,41	8,91				
	6,8	→	6,9	↓	7,2	↓	7,5	8,6	→	8,7	
	6,81	↓	7,0	→	7,1	↓	7,6	8,5	↓	8,8	
	7,10	↓	7,9	←	7,8	←	7,7	8,4	↓	8,9	
	7,11	↓	8,0	→	8,1	→	8,2	→	8,3	→	9,0