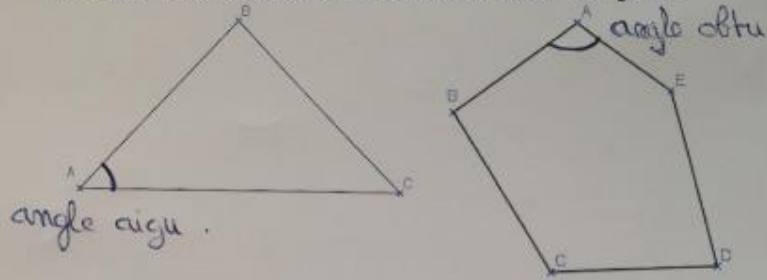


**Exercice :**

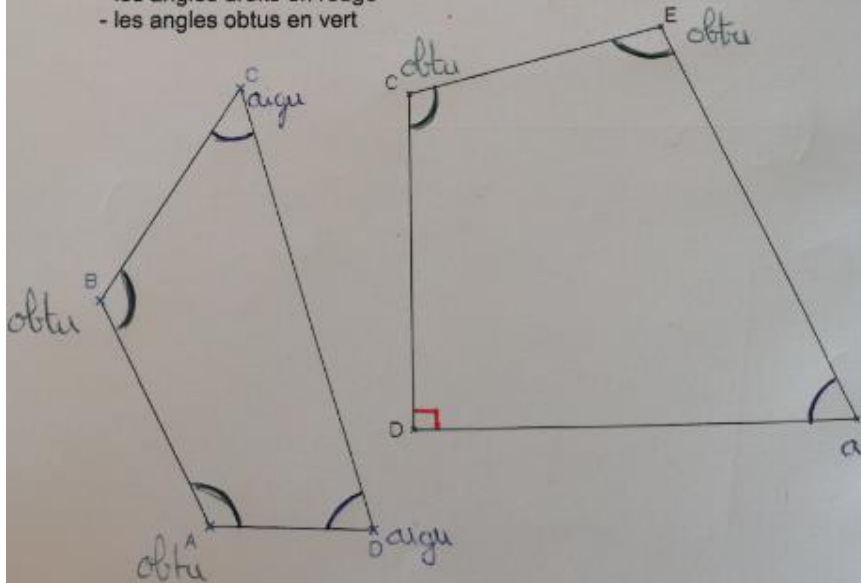
Marque en bleu l'angle de sommet A dans chacune des figures :



**Exercice :**

Dans chacune des figures, colorie

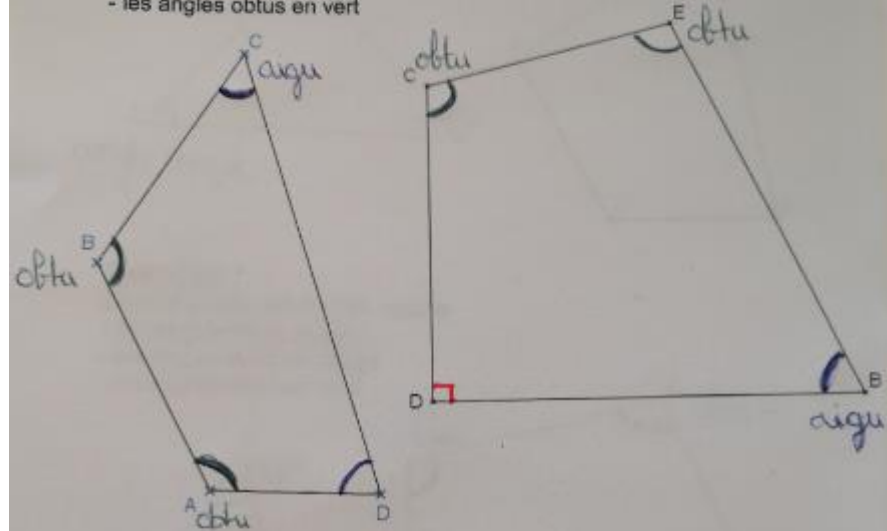
- les angles aigus en bleu,
- les angles droits en rouge
- les angles obtus en vert



**Exercice :**

Dans chacune des figures, colorie

- les angles aigus en bleu,
- les angles droits en rouge
- les angles obtus en vert



**Exercice :**

Trace un polygone à 5côtés qui compte 2 angles droits, deux angles aigus et un angle obtus.

Exemple:

