



**1** Indique la position des points suivants.



**2** Place les points suivants sur la droite.

G = 1,20   H = 0,60   I = 2,05   J = 1,75   K = 0,15   L = 0,95



**3** Compte de 0,1 en 0,1

3	3,1	3,2	3,3	3,4	3,5	3,6	3,7	3,8	3,9	4	4,1	4,2	4,3
---	-----	-----	-----	-----	-----	-----	-----	-----	-----	---	-----	-----	-----

11,8	11,9	12	12,1	12,2	12,3	12,4	12,5	12,6	12,7	12,8	12,9	13	13,1
------	------	----	------	------	------	------	------	------	------	------	------	----	------

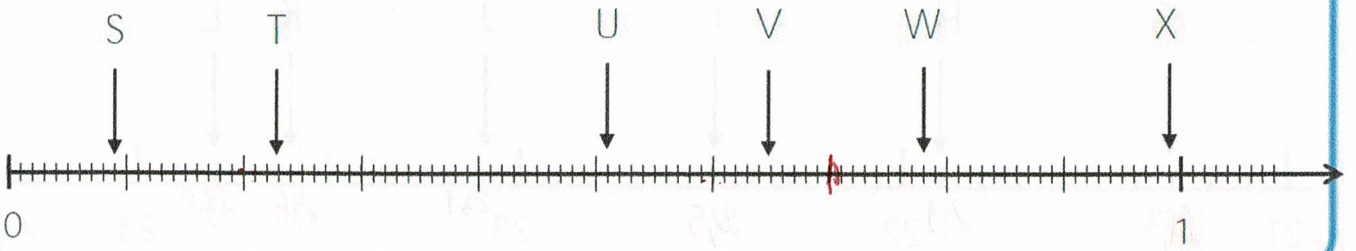
**4** Compte de 0,01 en 0,01

7,1	7,11	7,12	7,13	7,14	7,15	7,16	7,17	7,18	7,19	7,20	7,21	7,22	7,23
-----	------	------	------	------	------	------	------	------	------	------	------	------	------

3,27	3,28	3,29	3,30	3,31	3,32	3,33	3,34	3,35	3,36	3,37	3,38	3,39	3,40
------	------	------	------	------	------	------	------	------	------	------	------	------	------

5

Indique la position des points suivants.



S: 0,09

T: 0,23

U: 0,51

V: 0,65

W: 0,78

X: 0,99