

SCIENCES n°2

Nom : _____ Prénom : _____ Date : _____

Dp : dépassé

At : atteint

PA: partiellement atteint

NA : non atteint

objectifs évalués : - Identifier et caractériser les stades de développement humain :
- connaître le rôle respectif des deux sexes dans la reproduction humaine:
- caractériser les différences morphologiques homme/femme :

D) Vrai ou faux? Ecris ta réponse.

- En règle générale, un fœtus humain se développe pendant 9 mois avant de naître. _____

- Comme la très grande majorité des animaux, les humains ont une reproduction sexuée. _____

- Lors d'un rapport sexuel entre un homme et une femme, il peut y avoir fécondation. _____

- Un œuf se forme quand plusieurs spermatozoïdes pénètrent au même moment dans un seul et même ovule. _____

- À partir de la puberté, les filles et les garçons sont en capacité de procréer, c'est-à-dire d'avoir des enfants. _____

- Une fille pubère est capable de produire des ovules et un garçon pubère est capable de produire des spermatozoïdes. _____

- Les spermatozoïdes sont produits dans les ovaires de la femme. _____

II) Relie chaque mot à sa définition.

Fécondation •

Puberté •

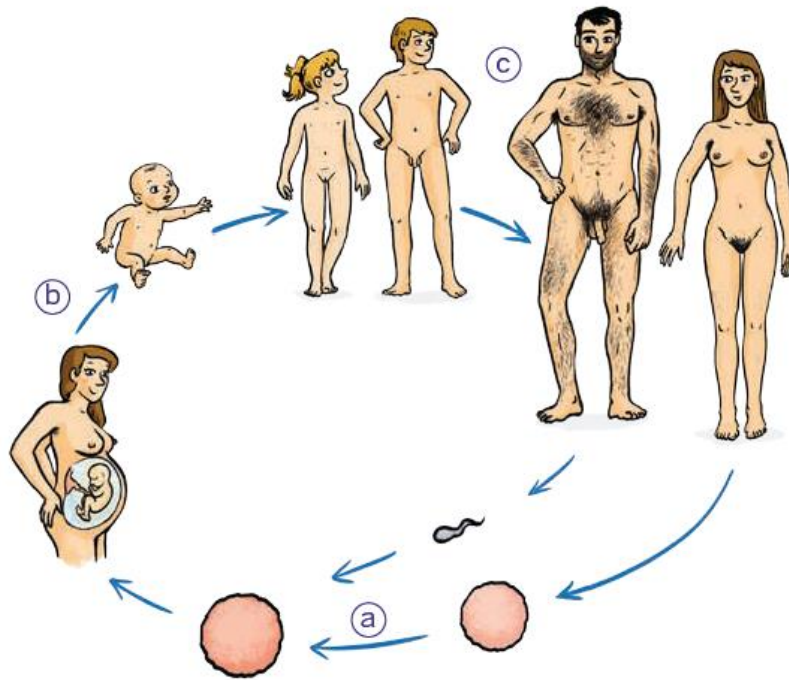
Sperme •

Règles
(ou menstruations) •

- Période de la vie durant laquelle le corps des enfants se transforme en corps d'adulte.
- Écoulement de sang par le vagin, pendant quelques jours, une fois par mois.
- Liquide blanchâtre émis par le pénis de l'homme qui contient des millions de spermatozoïdes.
- Fusion (mélange) entre un spermatozoïde et un ovule.

Quelle est la différence entre un ovule et un œuf?

III) Légende le cycle de vie des humains avec les mots suivants : ovule / jeunes / bébé / spermatozoïde/ adultes/ foetus / oeuf



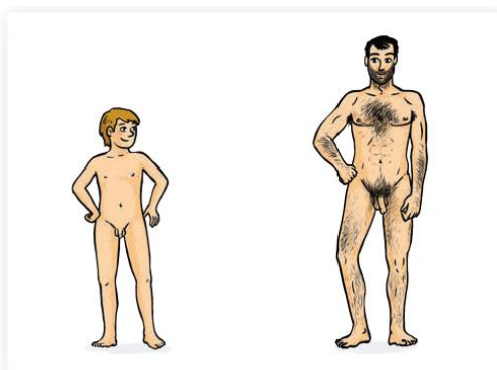
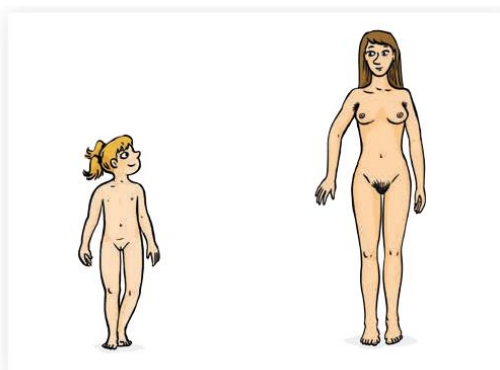
Complète les phrases suivantes avec les termes manquants (regarde sur le schéma ci-dessus):

L'étape a) correspond à

L'étape b) correspond à

L'étape c) correspond à

IV) Décris les principaux changements qui se déroulent lors de la puberté (visibles au niveau de l'apparence physique et également à l'intérieur du corps). Cites-en 3 par colonne.



V) Complète ces schémas avec les mots manquants:

1) Appareil génital féminin

