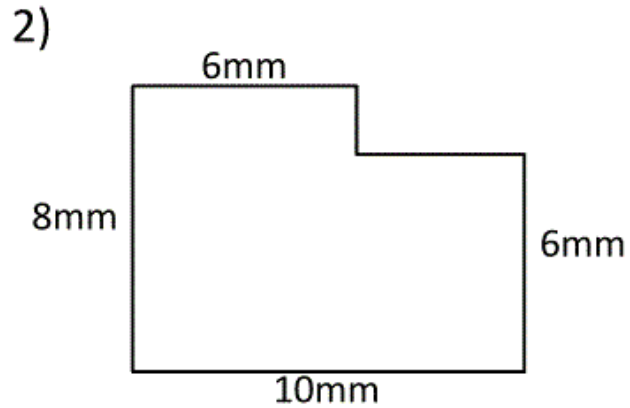
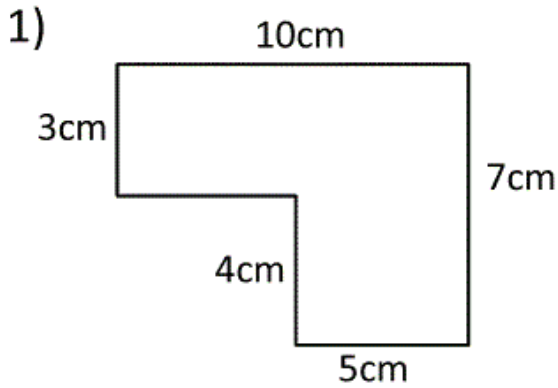


Fiche exercices périmètre et aire CM2

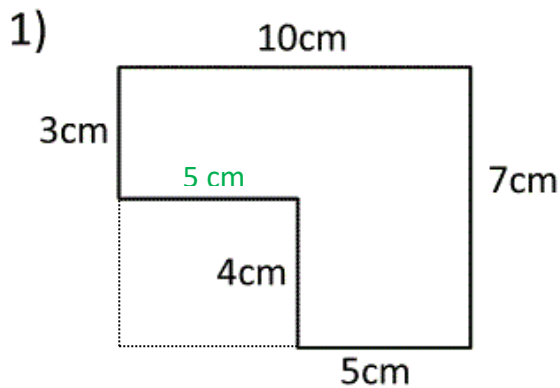
Calcule le périmètre et l'aire de chacune des figures suivantes :

il faut d'abord calculer les mesures manquantes.

Attention, les mesures indiquées ne sont pas réelles !



Fiche exercices périmètre et aire CM2 (correction)

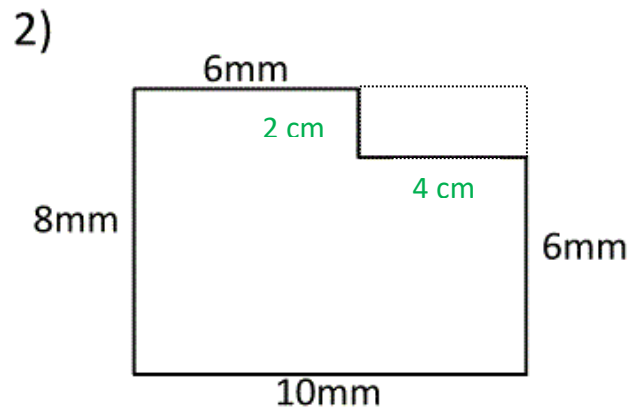


Calculs : $10 + 7 + 5 + 4 + 3 + 5 = 34$

Périmètre : 34 cm

Calculs : $(10 \times 7) - (5 \times 4) = 70 - 20 = 50$

Aire : 50 cm².



Calculs : $10 + 8 + 6 + 2 + 4 + 6 = 36$

Périmètre : 36 mm

Calculs : $(10 \times 8) - (2 \times 4) = 80 - 8 = 72$

Aire : 72 mm².