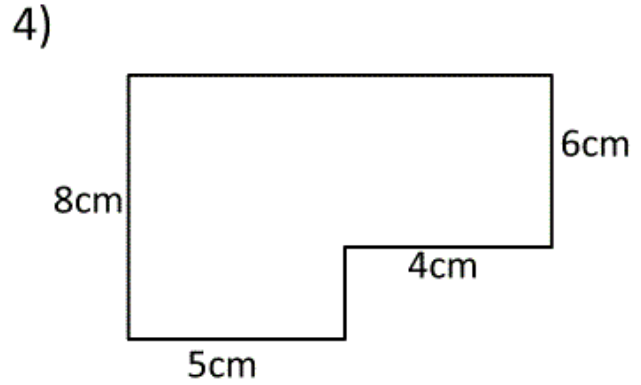
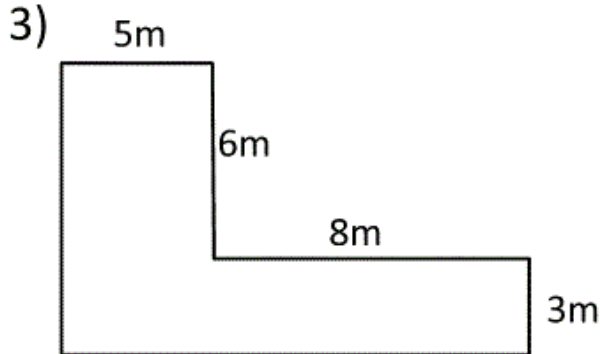


Fiche exercices périmètre et aire CM2

Calcule le périmètre et l'aire de chacune des figures suivantes :
il faut d'abord calculer les mesures manquantes.

Attention, les mesures indiquées ne sont pas réelles !



Calculs :

Périmètre : m

Calculs :

Aire : m².

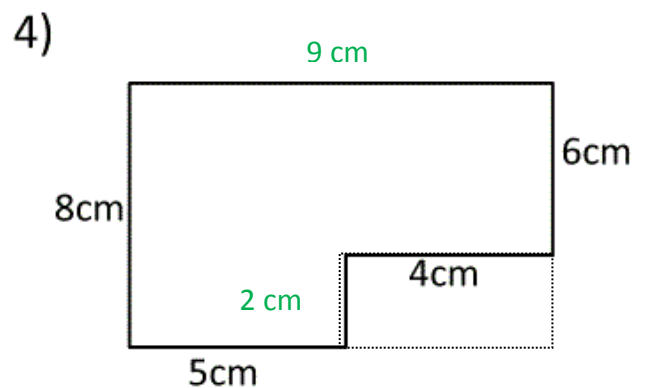
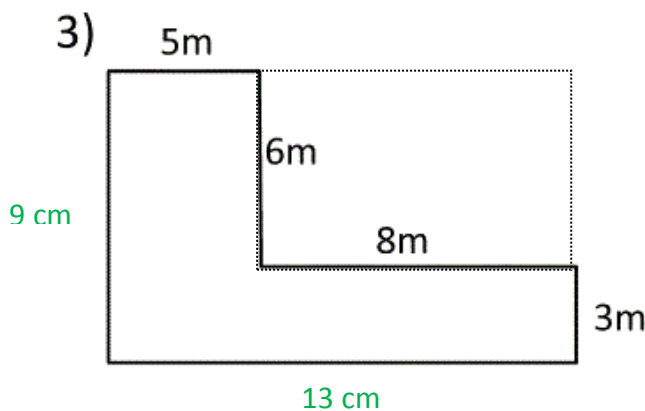
Calculs :

Périmètre : cm

Calculs :

Aire : cm².

Fiche exercices périmètre et aire CM2 (correction)



Calculs : $5 + 6 + 8 + 3 + 13 + 9 = 44$

Périmètre : 44 m

Calculs : $(9 \times 13) - (6 \times 8) = 117 - 48 = 69$

Aire : 69 m².

Calculs : $9 + 6 + 4 + 2 + 5 + 8 = 34$

Périmètre : 34 cm

Calculs : $(9 \times 8) - (2 \times 4) = 72 - 8 = 64$

Aire : 64 cm².