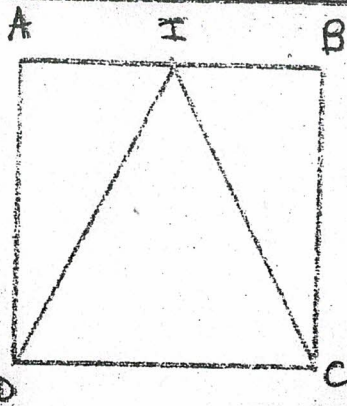


Géométrie

figure

reproduction

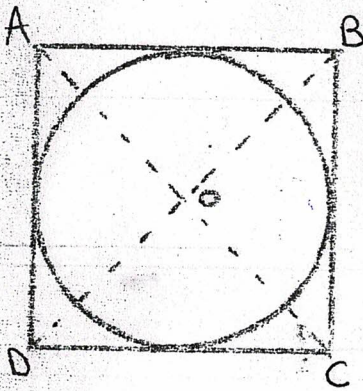
programme



mots à placer :

- carré
- I
- D
- C
- trace
- milieu
- isocèle

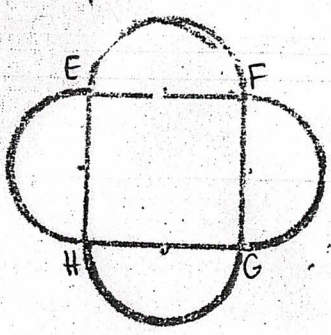
• Je _____ un _____ ABCD de 4cm de côté.
 • Je cherche le _____ I de [AB].
 • Je joins le point _____ au point _____ et au point _____ pour former un triangle _____.



mots à placer :

- diagonales
- trace
- centre
- carré
- compas

• Je _____ un _____ ABCD de 4cm de côté.
 • Je trace les _____ [AC] et [BD] du carré pour trouver le _____ du cercle.
 • Avec le _____ je trace le cercle inscrit au carré.
 • J'efface les diagonales du carré.



mots à placer :

- carré EFGH
- segment
- milieu
- de 2cm de côté
- trace
- côté
- compas

• Je trace un _____

 • Je cherche le _____ de chaque _____ pour trouver le milieu de chaque demi-cercle.
 • A l'aide du _____, je _____ un demi-cercle au-dessous de chaque _____.