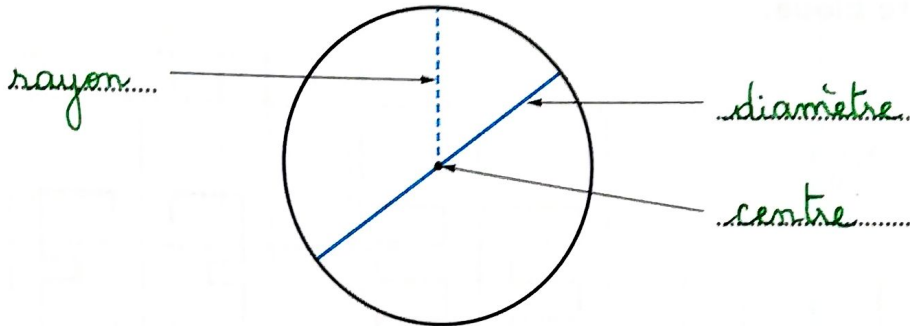




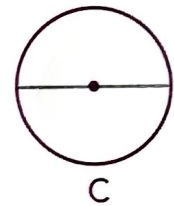
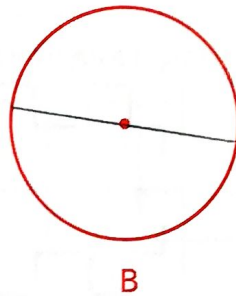
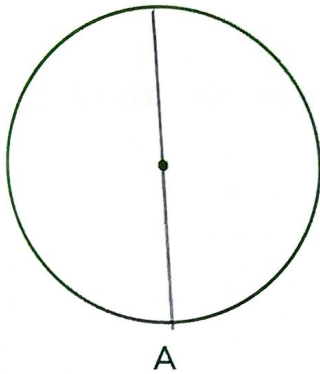
14 Construire un cercle

1 À l'aide de ces mots, légende le schéma du cercle : centre, rayon, diamètre.




2 Pour chaque cercle, donne la mesure de son diamètre.

	Cercle A	Cercle B	Cercle C
Mesure du diamètre	4 cm	3 cm	2 cm

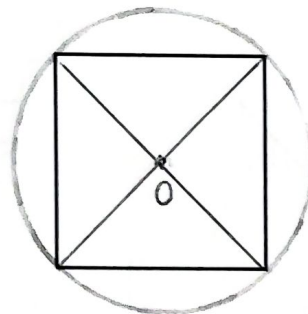


3 Trace les cercles ayant ces segments pour diamètre.



4 Complète cette figure.

Trace deux segments pour relier les sommets opposés du carré. Ces deux segments se coupent en un point O. Choisis un sommet du carré. Puis trace le cercle qui passe par ce sommet et qui a pour centre le point O.



Que constates-tu? *Le cercle passe par les 4 sommets du carré.*

